

Міністерство освіти і науки України
Тернопільський національний технічний університет
імені Івана Пулюя

*Кафедра
графічного моделювання*

БУДІВЕЛЬНЕ КРЕСЛЕННЯ

Навчально-методичний посібник
та завдання до виконання графічної і самостійної роботи для
студентів усіх форм навчання з курсу
“ІНЖЕНЕРНА ГРАФІКА”
для студентів напряму “Будівництво”

Тернопіль 2014

УДК 744
ББК 30.11 +38.2
Б90

Укладачі:

А. І. Пік; В. І. Ковбашин

Рецензенти:

М. І. Підгурський, докт. техн. наук, проф.,
зав. кафедри "Технологія та обладнання зварювального виробництва";

І. Й. Бочар, канд. техн. наук,
доц. кафедри трудового навчання ТНПУ ім. В. Гнатюка

Відповідальний за випуск

А. І. Пік, доц., канд. техн. наук

Рекомендовано й затверджено на засіданні кафедри графічного моделювання
Тернопільського національного технічного університету імені Івана Пулюя.

Протокол № 1 від 28.01. 2014 р.

Схвалено та рекомендовано до друку на засіданні методичної комісії факультету
машинобудування та харчових технологій Тернопільського національного технічного
університету імені Івана Пулюя.

Протокол № 3 від 19.02. 2014 р.

Б90 Будівельне креслення : навчально-методичний посібник та завдання до виконання графічної і самостійної роботи для студентів усіх форм навчання з курсу "Інженерна графіка" для студентів напряму "Будівництво" / Укладачі : А.І.Пік, В.І.Ковбашин. – Тернопіль : Вид-во ТНТУ імені Івана Пулюя, 2014. – 68 с.

Навчально-методичний посібник з курсу "Інженерна графіка" містить матеріали з будівельного креслення. Наведено основні вимоги, що ставляться до будівельних креслень, оформлення технічної документації. Подано необхідні відомості для виконання планів будівель, розрізів. Викладено правила оформлення зображень з урахуванням останніх вимог стандартів.

Призначено для студентів університетів, коледжів і технікумів стаціонарної та заочної форм навчання будівельних спеціальностей, які згідно з навчальними планами вивчають дисципліну "Інженерна графіка". Наведено зміст графічної роботи з виконання плану будівлі та розрізу будівлі.

© Пік А.І., Ковбашин В.І.

© Вид-во ТНТУ імені Івана Пулюя, 2014

1. МЕТА ПОСІБНИКА

Надання допомоги у вивченні теми «Будівельне креслення» з курсу «Інженерна графіка». Будівельне креслення, хоч і має багато спільного з машинобудівним, є окремим і особливим розділом технічного креслення, знання якого необхідне інженеру будь-якої спеціальності. Студенти повинні вивчити умовності й особливості будівельного креслення, вміти виконувати плани та розрізи будівель, читати креслення промислових і цивільних споруд, окремих конструктивних вузлів.

2. ЗАГАЛЬНІ ВІДОМОСТІ Й УМОВНОСТІ В БУДІВЕЛЬНИХ КРЕСЛЕННЯХ

У будівництві беруть участь проектні й наукові інститути, конструкторські бюро (проектування), підприємства будівельної промисловості (виготовлення будівельних матеріалів і виробів), будівельно-монтажні й ремонтно-будівельні організації (виконання будівельно-монтажних робіт).

Проектування ділиться на основні стадії:

- складання проектною організацією техніко-економічного обґрунтування будівництва на основі перспективних даних розвитку окремих галузей промисловості й економічних районів;

- складання міністерствами чи відомствами за безпосередньою участю проектною організацією завдання на проектування, основою якого служить архітектурно-планувальне завдання, отримане замовником проекту від місцевої ради народних депутатів;

- розроблення проектною документації, що містить технічний проект і робочі креслення. При складанні робочих креслень уточнюють і деталізують передбачені технічним проектом рішення, аби забезпечити виконання будівельно-монтажних робіт.

Наземні будови, що містять приміщення, призначені для проживання, культурно-побутових і виробничих цілей, називають будівлями.

Наземні споруди, в яких зовсім немає приміщень для перебування людей або наявні окремі приміщення не визначають основного призначення цих споруд, називають інженерними будівлями. До таких споруд відносять маяки, мости, греблі, шлюзи, башти, мачти, набережні тощо.

Будівлі залежно від їх призначення можна поділити на три групи: цивільні, промислові та сільськогосподарські.

Цивільні будівлі призначені для обслуговування побутових і суспільних потреб людини. Їх поділяють на житлові (житлові будинки, гуртожитки тощо) і громадські (клуби, театри, школи, лікарні тощо).

Промислові будівлі служать і для розміщення знарядь виробництва й виконання процесів праці. Вони призначені для обслуговування потреб промисловості й транспорту (будівлі фабрик, заводів, електростанцій, депо тощо).

Сільськогосподарські будівлі служать для обслуговування потреб сільського господарства (будівлі для утримання тварин і птиці, склади сільськогосподарської продукції, склади ядохімікатів і добрив, будівлі для зберігання й ремонту сільськогосподарських машин тощо).

Крім того, будівлі поділяють на висотні, підвищеної висотності (більше дев'яти поверхів), багатоповерхові (висотою більше трьох поверхів) і малоповерхові (до трьох поверхів включно). Поверховість будівель встановлюють за кількістю наземних поверхів.

Поверхом називають приміщення, розміщені в будівлях на одному рівні. Розрізняють такі види поверхів:

наземні – підлога поверху розміщена вище рівня землі;

цокольні – підлога поверху розміщена нижче рівня землі не більше ніж на половину висоти приміщення;

підвальні – підлога поверху заглиблена нижче рівня землі більше ніж на половину висоти приміщення.

Розміщення підлоги поверхів можна приймати і від рівня відмостки:

мансардні – поверх розміщений у просторі горища;

технічні – поверх облаштовується в будівлях підвищеної поверховості висотних або спеціального призначення (лабораторні корпуси тощо) і слугують для розміщення інженерного обладнання: опалювальні прилади, вентиляційні камери, насосні тощо.

Основні вимоги до робочих креслень будівель, споруд, будівельних конструкцій і виробів встановлюються стандартами СПДБ (система проектної документації для будівництва). Стандарт ДСТУ Б А. 2. 4-4-99 (ГОСТ 21.101-97) встановлює основні вимоги до проектної та робочої документації на будівництво підприємств, будинків та споруд різного призначення.

При будівництві будівель і споруд виконується великий об'єм робіт. Ці роботи поділяють на загальнобудівельні і спеціальні. Загальнобудівельними вважають роботи, які необхідно виконувати для будівництва та оздоблення будівель. Встановлення водогону, каналізації, опалення, вентиляції, газопостачання, електроосвітлення, радіофікації, телефонізації, роботи з благоустрою та інші відносять до спеціальних видів робіт.

До складу робочої документації на будівництво будинку або споруди у загальному випадку включають:

- а) робочі креслення, призначені для проведення будівельних і монтажних робіт;
- б) робочу документацію на будівельні вироби за ГОСТом 21501-93;
- в) ескізні креслення загальних видів нетипових виробів за ГОСТом 21.114-95;
- г) специфікації обладнання, виробів та матеріалів за ГОСТом 21.110-95;
- д) іншу документацію, яка додається і призначена відповідними стандартами СПДБ;
- е) кошторисну документацію за встановленими формами.

Склад архітектурно-будівельних робочих креслень будинків і споруд різного призначення встановлює ДСТУ Б А. 2. 4-7-95 (ГОСТ 21.501-93).

Робочі креслення, що служать для здійснення будівельно-монтажних робіт об'єднують у комплекти за марками. Марка складається із прописних букв назви певної частини проекту. Стандарт ДСТУ Б А. 2. 4-4-99 (ГОСТ 21.101-97) встановлює марки робочих комплектів (табл.1).

Таблиця 1.

Марки основних комплектів робочих креслень

Найменування основного комплекту робочих креслень	Марка	Найменування основного комплекту робочих креслень	Марка
Технологія виробництва	ТХ	Повітропостачання	ПП
Технологічні комунікації	ТК	Пиловидалення	ПУ
Генеральний план та споруди транспорту	ГТ	Холодопостачання	ХП
Генеральний план	ГП	Газопостачання (внутрішні пристрої)	ГПВ
Архітектурні рішення	АР	Силове електрообладнання	ЕМ
Інтер'єри	АІ	Електричне освітлення	ЕО
Конструкції залізобетонні	КЗ	Системи зв'язку	СЗ
Конструкції дерев'яні	КД	Радіозв'язок, радіомовлення і телебачення	РТ
Архітектурно-будівельні рішення	АБ	Пожежогасіння	ПГ
Конструкції металеві деталірувальні	КМД	Пожежна сигналізація	ПС
Водопровід та каналізація	ВК	Охоронна та охоронно-пожежна сигналізація	ОС
Опалення, вентиляція та кондиціонування	ОВ	Гідротехнічні рішення	ГР
Тепломеханічні рішення котельних	ТМ	Антикорозійний захист конструкцій будинків, споруд	АЗ
Автомобільні дороги	АД	Залізничні колії	ЗК

За необхідності можна призначати додаткові марки основних комплектів робочих креслень, якщо в стандарті потрібного найменування немає. При цьому при призначенні нової марки використовують не більше трьох прописних букв українського алфавіту. Ці букви, як правило, відповідають початковим буквам нової назви основного комплекту.

3. МОДУЛЬНА КООРДИНАЦІЯ РОЗМІРІВ У БУДІВНИЦТВІ

Основою типізації і стандартизації в проектуванні, виробництві будівельних виробів і будівництві служить *модульна координація розмірів у будівництві (МКРБ)*, яка являє собою зібрання правил координації розмірів об'ємно-планувальних і конструктивних елементів будівель і споруд, будівельних виробів і обладнання на базі модуля.

Модулем називають умовну одиницю вимірювання, що використовується для координації розмірів будівель і споруд, їх елементів, деталей і будівельних виробів.

Основним модулем називають модуль, прийнятий за основу призначення інших, похідних від нього модулів. Величина основного модуля дорівнює 100мм і позначається М.

Похідним модулем – укрупненим або дробним - називається модуль, що кратний основному або складає частину основного.

Укрупненим модулем (мультимодулем) називають виробничий модуль розміром більше основного в ціле число разів: 3М, 6М, 12М, 15М, 30М і 60М (відповідно 300, 600, 1200, 1500, 3000 і 6000мм).

Дробним модулем (субмодулем) називають похідний модуль, розміром менше основного: 1/2М, 1/5М, 1/10М, 1/20М, 1/50М і 1/100М (відповідно 50, 20, 10, 5, 2 і 1мм).

Об'ємно-планувальним елементом називають частину об'єму будівлі, що характеризується прогоном, кроком і висотою поверху. Планувальний елемент являє собою горизонтальну проекцію об'ємно-планувального елемента. Висота поверху будівлі визначається розміром від рівня підлоги даного поверху до рівня підлоги поверху, розміщеного вище. Висота поверху в одноповерхових промислових будівлях дорівнює відстані від рівня підлоги до нижньої грані несучої конструкції на опорі.

Розміщення об'ємно-планувальних елементів будівель і споруд у просторі здійснюється за допомогою модульної тримірної просторової координаційної системи модульних площин. *МКРБ* передбачає використання прямокутної системи (рис. 3.1). Відстань між цими площинами приймають кратними основному чи похідному модулю. Лінії перетину модульних площин являють собою модульні координаційні осі. Ці осі проводять на плані по основних

несучих конструкціях будівлі чи споруди. Координаційні осі використовують у будівництві при розбивці споруди на місцевості.

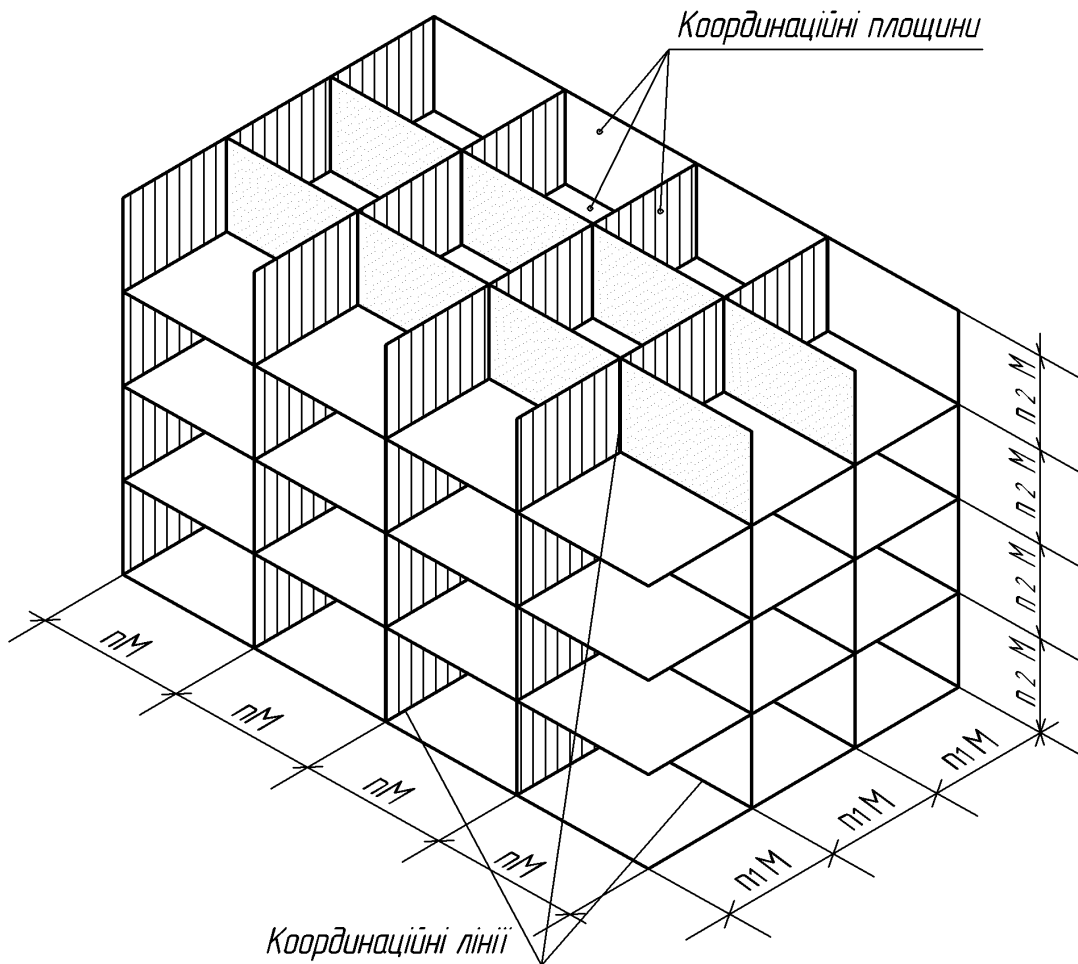


Рис. 3.1. Координаційна система модульних площин

Відстань між координаційними (розбивочними) осями в плані називають кроком. Крок може бути поздовжнім і поперечним. Відстань між координаційними осями в напрямку, що відповідає прогону основної несучої конструкції перекриття (прогін, ригель) або перекриття (ферми), називають прогоном. Прогін може співпадати з кроком (рис. 3.2).

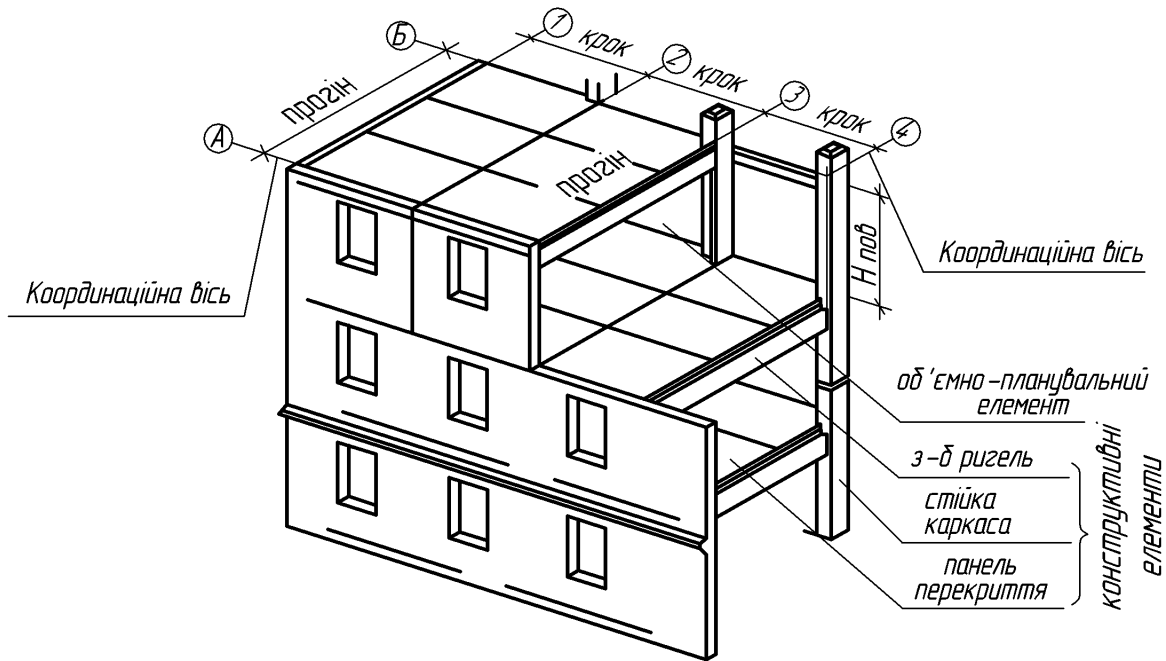


Рис. 3.2. Об'ємно-планувальний елемент

Конструктивним елементом будівлі називають окрему самостійну конструкцію (див. рис. 3.2), наприклад, панель перекриття, залізобетонний ригель тощо. Розміри конструктивних елементів поділяють на координаційні та конструктивні.

Координаційним розміром l_0 є модульний розмір, що визначає границі координаційного простору в одному напрямку (рис. 3.3).

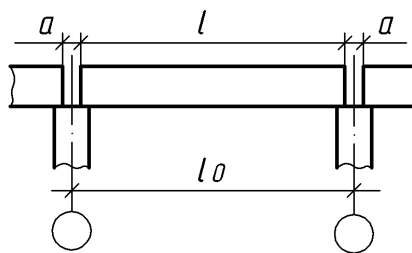


Рис. 3.3. Координаційний та конструктивний розміри

Конструктивним розміром є проектний розмір l будівельної конструкції, виробу. Конструктивний розмір може бути менший чи більший від координаційного (див. рис. 3.3).

Усі розміри об'ємно-планувальних і конструктивних елементів повинні бути кратні модулю.

4. ЗАГАЛЬНІ ПРАВИЛА ГРАФІЧНОГО ОФОРМЛЕННЯ БУДІВЕЛЬНИХ КРЕСЛЕНЬ

4.1. Масштаби. Зображення на будівельних кресленнях планів, фасадів, розрізів, конструкцій, деталей та інших елементів цивільних, промислових і сільськогосподарських будівель виконуються в масштабах відповідно до ГОСТ2.302-68, з врахуванням вимог ГОСТ21.501-93. Масштаби для будівельних креслень наведені в табл.2.

Таблиця 2

Масштаби зображень на кресленнях будівель

Назва	Масштаби зображень	
	Основний	Допустимий при більшій насиченості зображення
Плани поверхів (крім технічних), розрізи, фасади	1:100, 1:200, 1:400, 1:500	1:50
Плани покрівель, підлог, технічних поверхів	1:500, 1:800, 1:1000,	1:200
Фрагменти планів, фасадів	1:100	1:50
Вузли	1:10, 1:20	1:5

Масштаб креслення потрібно вибирати мінімальним – залежно від складності креслення, проте таким, щоб забезпечував чіткість копій при сучасних способах розмноження креслень.

4.2. Лінії креслення. На будівельних кресленнях використовують типи ліній згідно з ГОСТом 2.303-68. Товщина ліній для всіх зображень, виконаних в одному і тому ж масштабі, повинна бути однаковою. Проте на будівельних кресленнях є деякі особливості у використанні деяких типів ліній. На плані й розрізі будівлі видимі контури обводять лініями різної товщини. Товстішою лінією наводять ділянки стін, що потрапили в січну площину. Контури ділянок стін, що не потрапили в січну площину, наводять тонкою лінією. Приблизна товщина ліній для наведення основних будівельних креслень наведена в табл. 3 та 4.

Таблиця 3

Товщина ліній, мм, для наведення креслень планів, розрізів і фасадів

Назва	Для масштабів			
	1:400	1:200	1:100	1:50
	Плани і розрізи			

Закінчення таблиці 3				
Лінія землі	0,4	0,5 – 0,6	0,7 – 0,8	0,8
Кам'яні елементи, що потрапляють у переріз	0,4	0,5 – 0,6	0,7 – 0,8	0,8
Дерев'яні елементи, що потрапляють у переріз	0,4	0,4 – 0,5	0,6 – 0,7	0,6 – 0,7
Конттури інших елементів	0,3	0,3	0,3 – 0,4	0,3 – 0,4
Обладнання	0,3	0,2	0,2 – 0,3	0,2 – 0,3
Фасади				
Лінія землі	0,6	0,6	0,8	0,8
Конттури будівель	0,3 – 0,4	0,3 – 0,4	0,4 – 0,5	0,5 – 0,6
Лінії прорізів, воріт, дверей і вікон	0,3	0,3	0,4	0,4
Рисунок коробок, переплетень і полотен, воріт, дверей і вікон	0,2	0,2	0,2	0,2 – 0,3

Таблиця 4

Товщина ліній, мм, для наведення креслень деталей

Назва	Для масштабів				
	1:20	1:10	1:5	1:2	1:1
Перерізи: кам'яних елементів (цегла, бетон тощо)	0,8	1	1	1	1
дерев'яних елементів	0,6	0,8	1	1	1
Конттури січень, що не попадають в розріз	0,3	0,3	0,3	0,3	0,3

4.3. Розміри.

Розміри на будівельних кресленнях проставляють у відповідності з ГОСТом 2.307–68 з урахуванням вимог системи проектної документації для будівництва ДСТУ Б А. 2. 4-7-95 (ГОСТ 2.501 – 93). Розміри проставляють у міліметрах без вказання одиниць вимірювання і, як правило, у вигляді замкненого ланцюга. При проставленні розмірів в інших одиницях (см, м) роблять необхідні примітки у кресленні. Розмірні лінії обмежуються не стрілками, а засічками (рис.4.1). Засічки – це короткі штрихи довжиною 2 – 4 мм, які проводять під кутом 45° з нахилом вправо до розмірної лінії. Товщина

розміри між ними наносять тільки спочатку і в кінці ряду (рис.4.3) і наносять сумарний розмір між крайніми елементами у вигляді добутку числа елементів на величину повторюваного розміру.

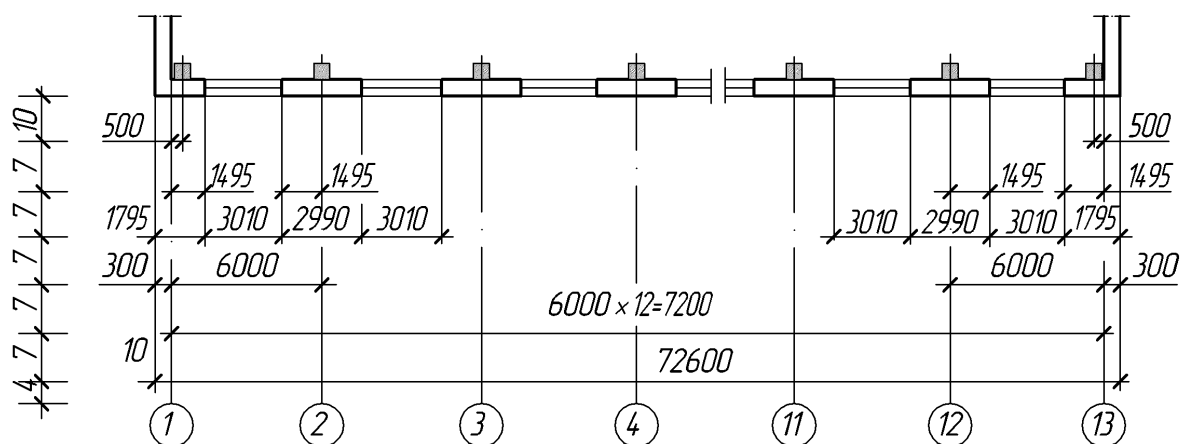


Рис. 4.3. Нанесення розмірів при повторюваності елементів

Розмірну лінію на будівельних кресленнях обмежують стрілками згідно з ГОСТом 2.307 – 68 у випадку, коли потрібно вказати діаметр, радіус кола або кут, а також при нанесенні розмірів від спільної бази, що розміщуються на спільній розмірній лінії (рис. 4.4).

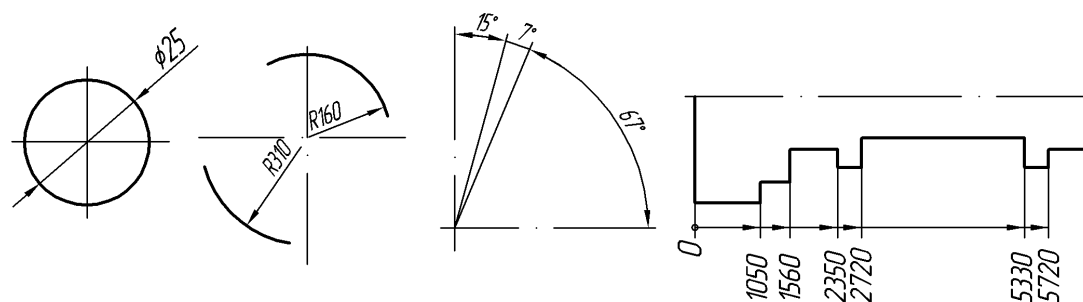


Рис. 4.4. Використання стрілок

4.4. Числові позначки. Позначки рівнів (висота, глибина) на планах, розрізах фасадах показують відстань по висоті від рівня поверхні, прийнятої за умовний «нуль». За нульовий рівень найчастіше приймають рівень підлоги першого поверху. Позначку рівня показують умовним знаком у вигляді розгорненої стрілки з поличкою (рис. 4.5а). При цьому стрілку виконують основною лінією довжиною 2 – 4 мм, проведеною під кутом 45° до виносної лінії чи лінії контуру. Лінію виноски виконують суцільною тонкою лінією. Розмір h рекомендовано приймати від 2 до 6мм залежно від розмірів

креслення. Довжина полички знаходиться в межах від 10 до 15мм. Якщо біля одного зображення розміщуються один над одним кілька знаків рівнів, вертикальні лінії позначок рекомендовано розташовувати на одній вертикальній прямій, а довжину горизонтальної полички виконувати однаковою (рис. 4.5б).

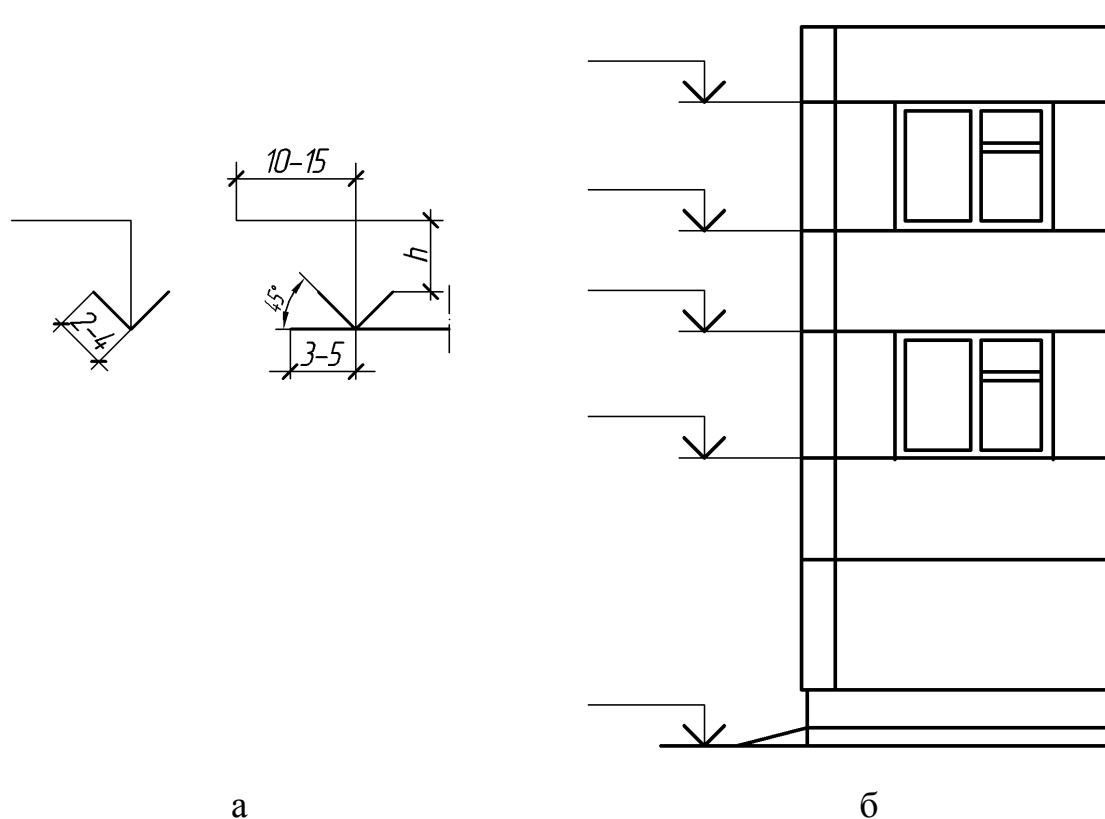


Рис. 4.5. Зображення позначок рівня

Нульову позначку наносять без знака. Позначки вище нульової – зі знаком «+», нижче нульової – зі знаком «-». Умовну нульову позначку позначають так: 0,000. На будівельних кресленнях позначки рівнів вказують у метрах, з трьома десятковими знаками, відділеними від цілого числа комою.

На планах розмірне число позначки наносять у прямокутнику, контур якого виконано суцільною тонкою лінією, або на поличці лінії-виноски (рис. 4.6). Перед розмірним числом вказують знак плюс або мінус.

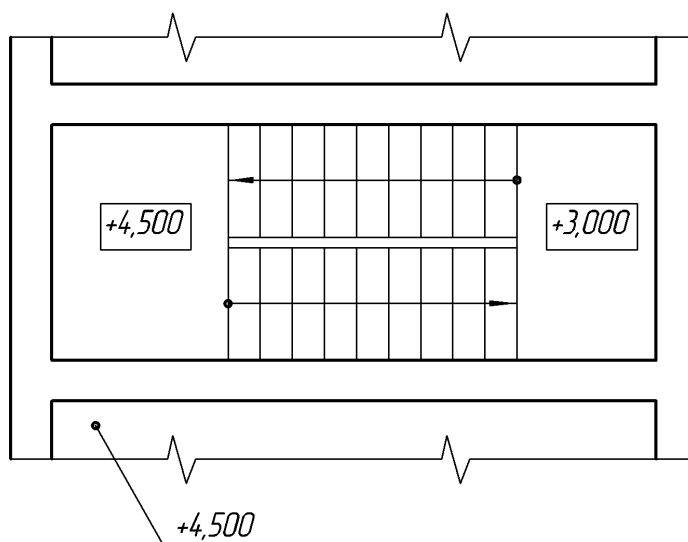


Рис. 4.6. Зображення числових позначок на планах

4.5. Уклон. Уклон контурів і ліній на розрізах і схемах позначають відповідно до ГОСТу 2.307 – 68 знаком « \angle », гострий кут якого направлено в бік уклону, і після якого наносять розмірне число. Позначення уклону наносять над лінією контуру або на полиці лінії-виноски (рис.4.7а). Уклон площини вказують стрілкою, над якою наносять величину уклону у відсотках або у вигляді відношення висоти до довжини (рис. 4.7б).

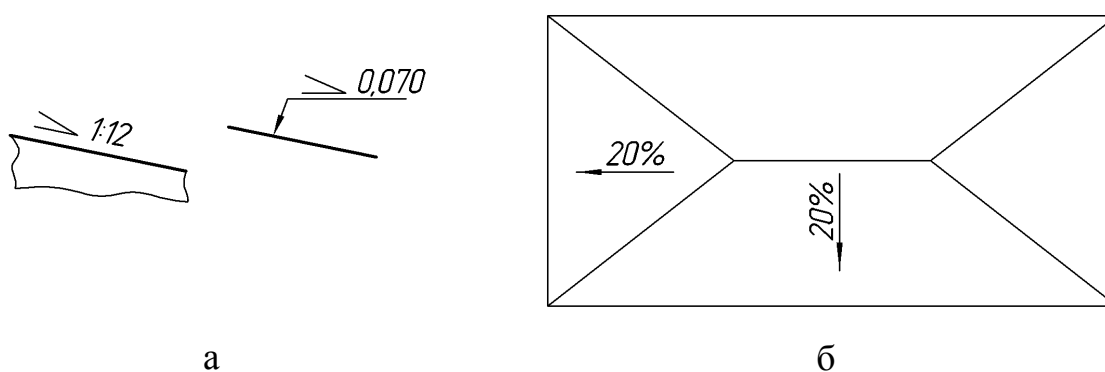


Рис. 4.7. Позначення уклону на кресленнях

4.6. Основний напис. Основний напис для оформлення проектної та робочої документації на зведення будинків та споруд різного призначення виконується згідно зі стандартом Б А.2.4-4-99 (рис. 4.8).

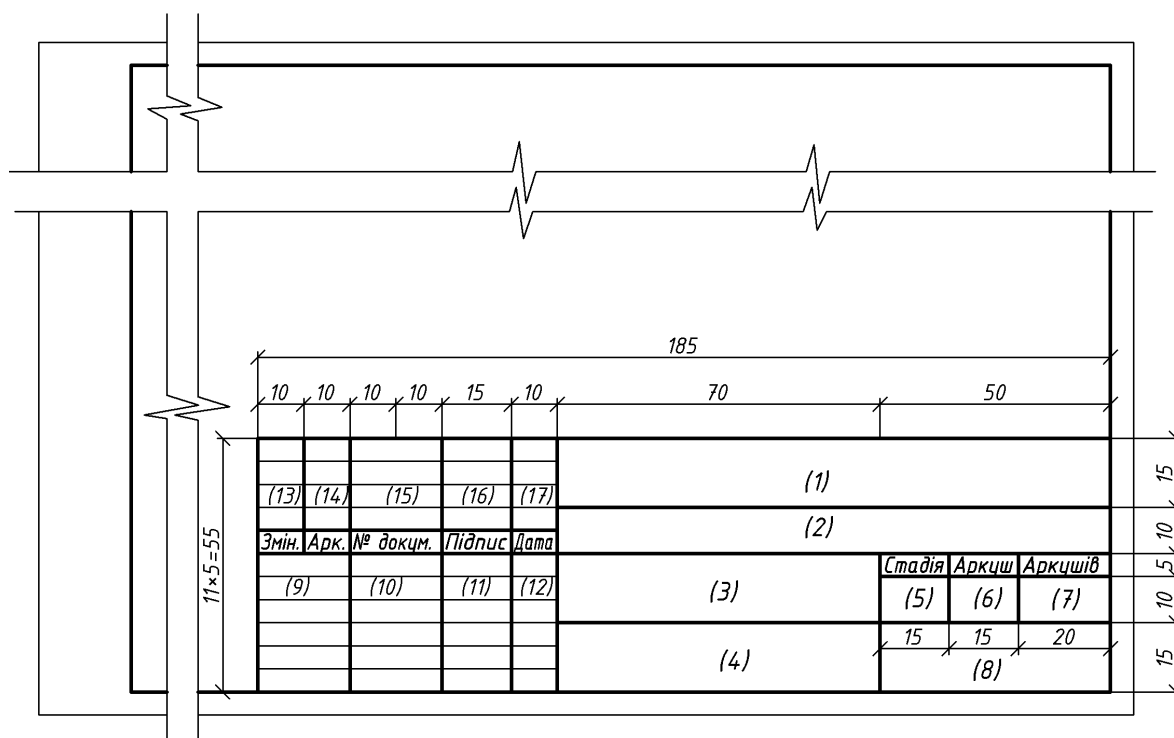


Рис. 4.8. Основний напис

У графах основного напису наносять:

- 1 – позначення документа, в тому числі розділу проекту, основного комплексу робочих креслень, наприклад, 1234-11-АР, де 1234 – номер проекту або шифр об'єкта будівництва; 11 – номер будинку за генеральним планом; АР – марка комплексу робочих креслень;
- 2 – найменування об'єкта будівництва, до складу якого входить будинок (споруда);
- 3 – найменування будинку (споруди);
- 4 – найменування зображень, що розміщені на даному аркуші;
- 5 – умовне позначення стадії проектування;
- 6 – порядковий номер аркуша (на документах, які складаються з одного аркуша, графу не заповнюють);

- 7 – загальне число аркушів документа (графу заповнюють тільки на першому аркуші);
- 8 – найменування організації, яка розробила документ;
- 9 – характер виконаної роботи (розробив, перевірів);
- 10 – 12 – прізвища та підписи осіб, указаних у графі 9, та дату підписання.
- 13-17 – графи таблиці змін при внесенні змін до інформації.

Назви виробів і зображень слід записувати в називному відмінку однини у відповідності з прийнятою термінологією. В назві виробу, що складається з кількох слів, на перше місце ставиться іменник, наприклад, «Двері одностулкові».

4.7. Написи. Шрифти для написів на будівельних кресленнях використовують згідно з ГОСТом 2.304-81. Рекомендовано такі розміри шрифтів на будівельних кресленнях:

в основному написі: назва вузу, листа, об'єкта тощо – 5 або 7мм, інші написи 3,5 або 5мм;

у назвах основних креслень і таблиць – 5 або 7мм, другорядних креслень, текстових вказівок тощо – 3,5 або 5мм, цифрових даних для заповнення таблиць – 3,5 або 2,5мм;

у позначеннях координатних осей, нумераційного маркування вузлів, номерів позицій при діаметрах кружків 6 – 9мм розмір шрифту 3,5 або 5мм, при діаметрі 10, 12мм і більше – 5 або 7мм;

висота розмірних чисел на кресленнях, виконаних у масштабі 1:100 і більших, рекомендується 3,5мм, а в масштабі 1:200 і дрібніших – 2,5мм.

Розміри шрифту для інших написів приймають залежно від масштабу й насиченості креслення. Написи розміщують над зображенням і не підкреслюють.

4.8. Виносні написи. Для позначення шарів багатошарових конструкцій використовують виносні написи у вигляді «прапорців» (рис. 4.9). Написи на полицях «прапорця» наносять у послідовності розміщення шарів конструкції.

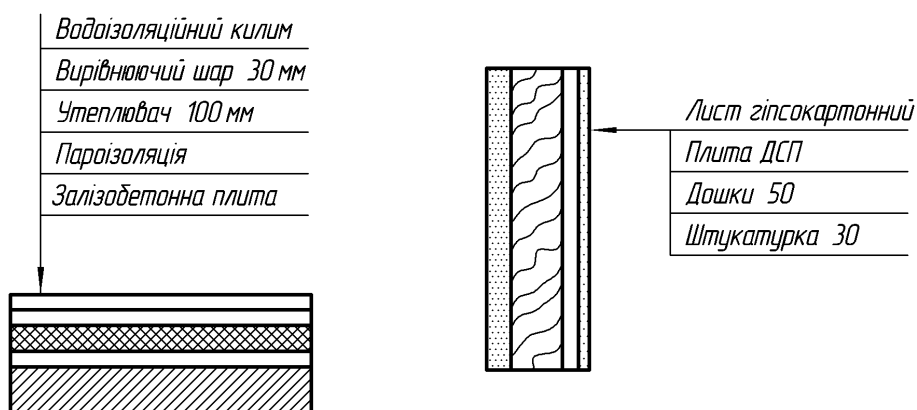


Рис. 4.9. Виносні написи

4.9. Координаційні осі. Як відзначалося вище, положення окремих конструктивних елементів будинків і споруд визначається розмірно прив'язкою до координаційних осей будівлі. Координаційними називають осі, що визначають розміщення капітальних стін або опор. Їм надають самостійну систему позначень. Відстань між координаційними осями вздовж будинку називають кроком, а поперек будинку – прогоном. Згідно з ДСТУ Б А.2.4.-4-99 координаційні осі наносять на зображення будинку, споруди тонкими штрихпунктирними лініями з довгими штрихами, позначають арабськими цифрами та великими літерами українського алфавіту (за винятком літер Є, З, І, Ї, Й, О, Х, Ч, Ц, Щ, Ђ), у кружечках діаметром 6–12 мм. Цифрами позначають координаційні осі по стороні будинку і споруди з великою кількістю осей зліва направо. Літерами позначають координаційні осі знизу вгору. Якщо для позначення координаційних осей не вистачає літер алфавіту, наступні осі позначають двома літерами, наприклад, АА; ББ; ВВ. Осі, як правило, наносять по лівій і нижній сторонах плану будинку (рис. 4.10а) або як показано на рисунках 4.10б, в. При незбіжності координаційних осей протилежних сторін плану позначення вказаних осей у місцях розходження додатково наносять по верхній та/або правій сторонах. Розмір шрифту для позначення координаційних

осей повинен бути на один два розміри більший, ніж розмір шрифту розмірних чисел.

Для окремих елементів, які розташовані між координаційними осями основних несучих конструкцій, наносять додаткові осі та позначають їх у вигляді дробу: над рискою вказують позначення попередньої координаційної осі, під рискою – додатковий порядковий номер у межах ділянки між сусідніми координаційними осями (рис. 4.10г).

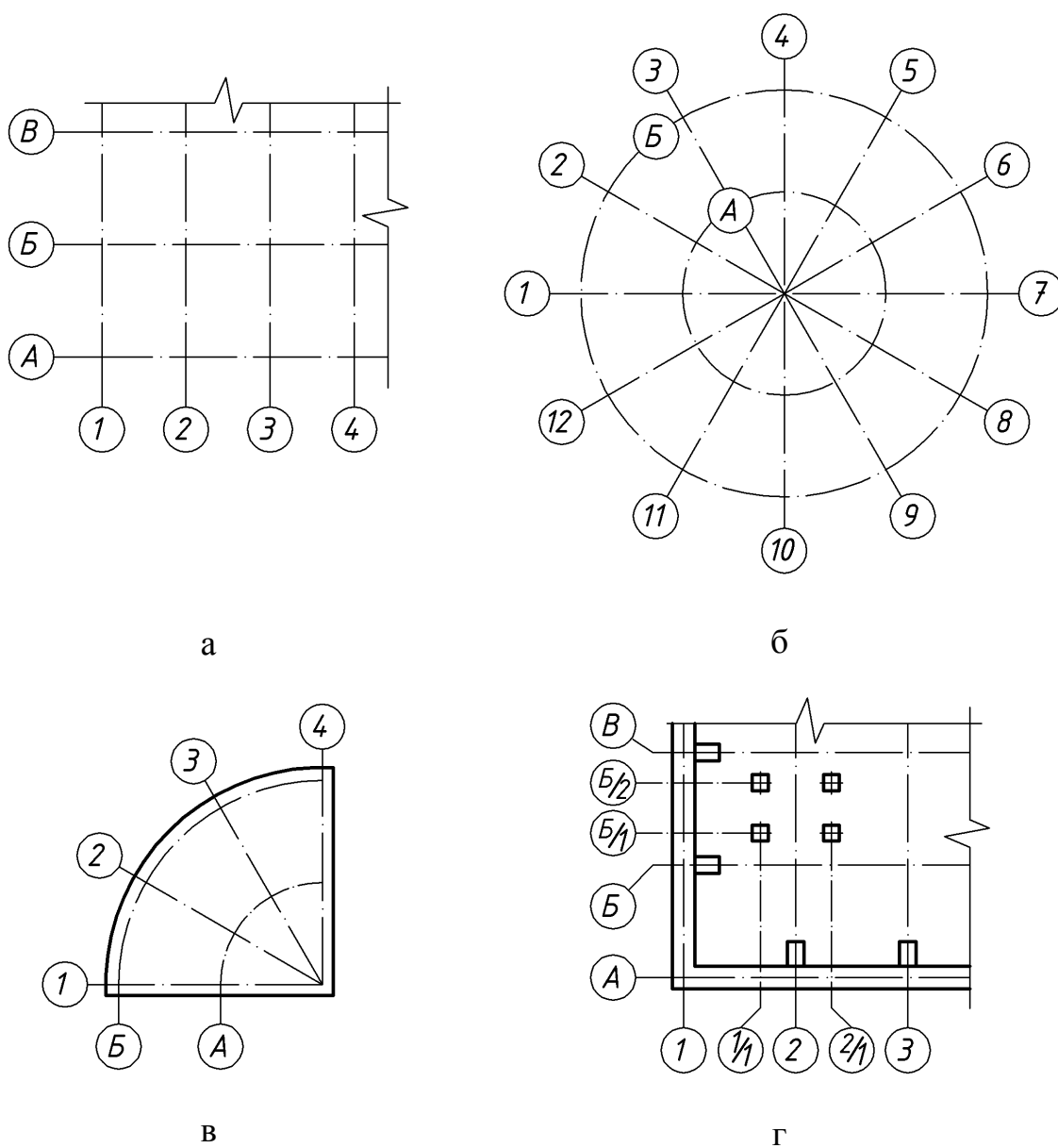


Рис. 4.10. Правила позначення координаційних осей

5. ОСНОВНІ КОНСТРУКТИВНІ ЕЛЕМЕНТИ БУДІВЕЛЬ

Будівля – наземна споруда, що включає різні відокремлені приміщення. Основними конструктивними елементами будівлі є фундамент, стіни, перегородки, перекриття, вікна, двері, дах, сходи (рис. 5.1).

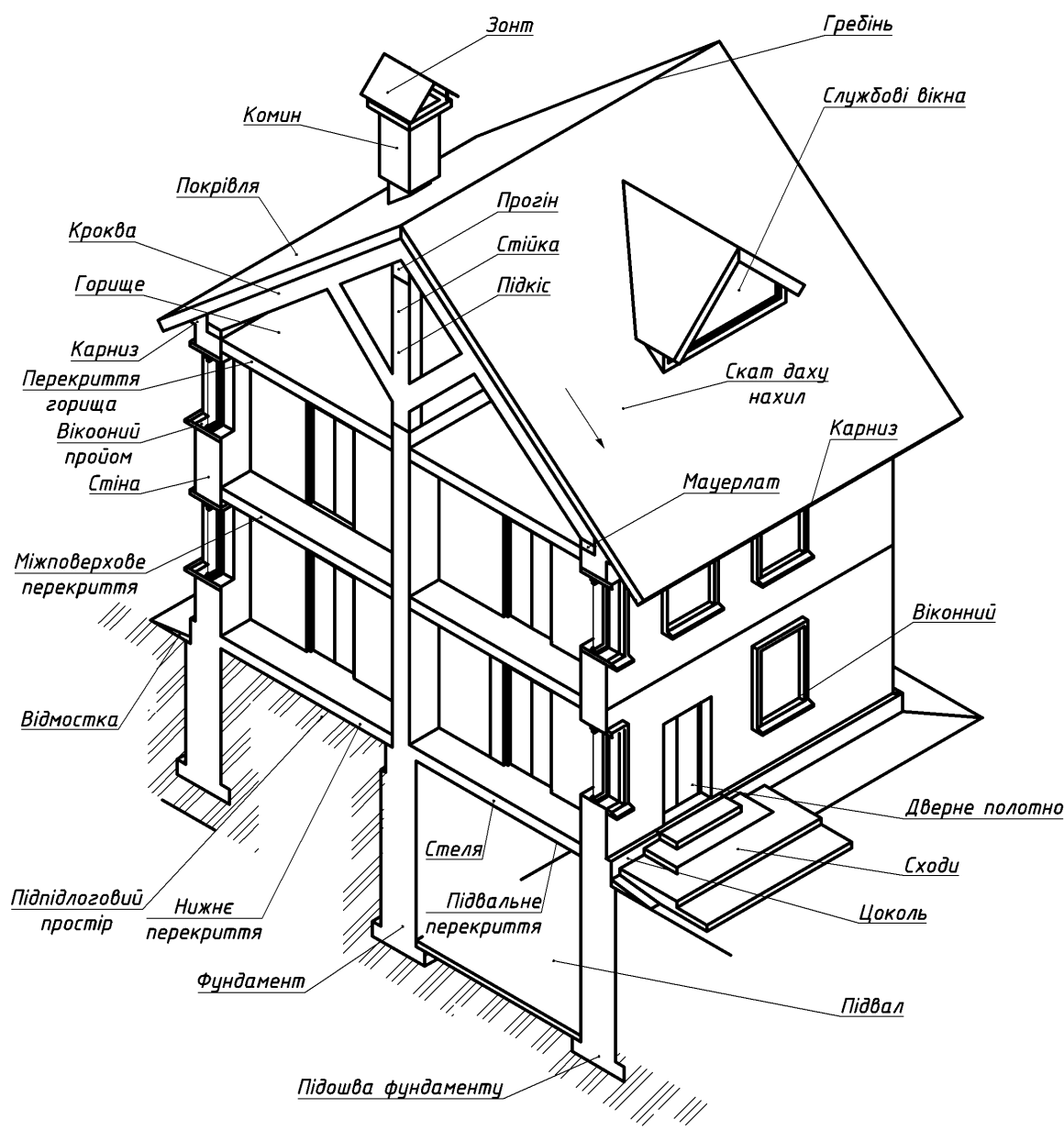


Рис. 5.1. Основні конструктивні елементи будівлі

Підземну частину будівлі, призначену для передавання на ґрунт навантаження, називають *фундаментом*. Ґрунт, на який опирається фундамент, називають *основою*. Основи бувають природні (ґрунт) та штучні (сваї тощо). Фундаменти бувають стрічкові, стовпчасті, суцільні та свайні.

Відмостка служить для відведення атмосферних опадів від стін будівлі.

Цоколь – нижня частина стіни над фундаментом до рівня підлоги першого поверху. Виконується цоколь із матеріалів підвищеної міцності, волого- і морозостійкості або облицьовується таким матеріалом.

Стіни відокремлюють приміщення від зовнішніх температурних і атмосферних впливів. Їх поділяють на зовнішні та внутрішні. Якщо вони несуть навантаження від інших елементів будівель, їх називають капітальними. Внутрішні стіни відділяють одне приміщення від іншого.

Перегородки розділяють внутрішній простір будівлі в межах поверху на окремі приміщення.

Пілястри – вузькі вертикальні потовщення в стінах, що служать для збільшення їх стійкості. Виконують у місцях спирання на стіни елементів покриття чи перекриття.

Перекриття – розділяють будівлю по висоті на поверхи або відділяють верхній поверх від горища.

Покриття складається з даху і горищного перекриття. Дах складається із несучого каркасу (конструкції) і покрівлі. Покрівля служить захистом будівлі від атмосферних опадів і вітру, нагріття сонцем. Покриття з горищем називають горищними; якщо покрівля примикає впритул або об'єднується з горищним перекриттям то його називають суміщеним або безгорищним.

Карниз – горизонтальний профільований виступ стіни, що служить для відводу від поверхонь стін атмосферних опадів. Величина на яку карниз виступає за поверхню стіни, називається виносом карнизу.

Підлога залежно від призначення може мати різну конструкцію (підлога по лагах, по бетонній основі).

Сходи є засобом з'єднання між поверхами. Вони складаються із наклонних елементів – маршів і горизонтальних – площадок. Сходи бувають одно-, дво- та багатомаршеві. Марші з'єднують дві сходові площадки. Всі ці елементи розміщені в приміщенні, яке називають сходовою кліткою.

Вікна служать для освітлення та провітрювання приміщень. Вони повинні мати відповідні теплотехнічні й акустичні властивості. В віконні прорізи встановлюють віконні коробки з зашкленним полотном, підвіконня і зовнішній відлив. Вікна можуть бути одностулкові, двостулкові, тристулкові або з балконними дверима.

Двері призначені для сполучення між приміщеннями. За призначенням двері поділяються на внутрішні і зовнішні. За способом відкриття – на розмашні, розсувні, складчасті, обертові та двері-штори. Розмашні двері за кількістю дверних полотен поділяють на одностулкові, двостулкові і півторачні. При встановленні ширини дверей враховують габарити обладнання, що розміщується в приміщенні, і пропускну здатність на випадок термінової евакуації людей. Ширину дверей при цьому вибирають із розрахунку 0,6м на кожні 100 чоловік.

6. ВИКОНАННЯ ПЛАНІВ БУДІВЕЛЬ

План – це зображення розрізу будівлі уявною горизонтальною площиною на певному рівні (рис. 6.1).

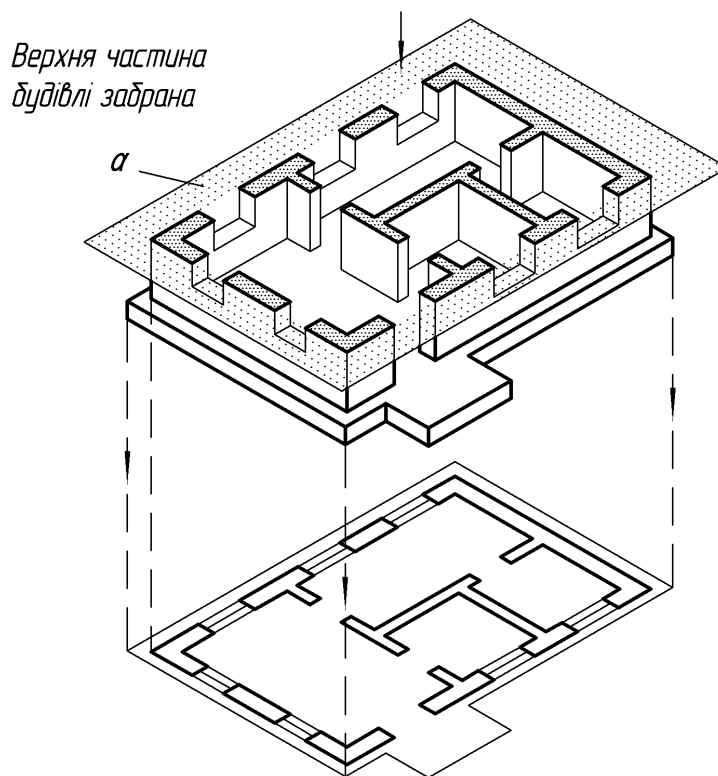


Рис. 6.1. Утворення плану будівлі

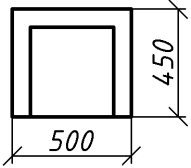
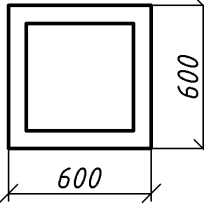
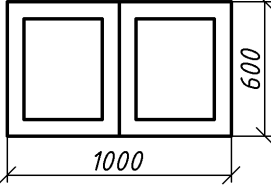
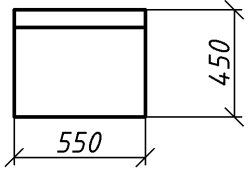
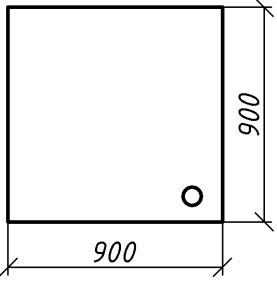
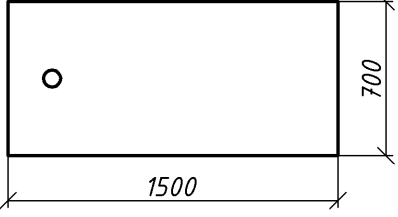
Залежно від змісту креслення і його призначення, від розміщення січної площини розрізняють плани: поверхів, фундаментів, перекриттів, підлоги, покрівлі (даху) та інші. Для житлових і громадських будівель січну площину розміщують у межах віконних і дверних прорізів кожного поверху.

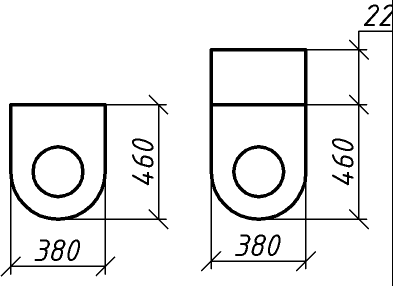
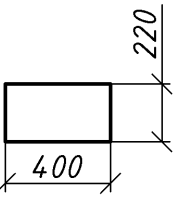
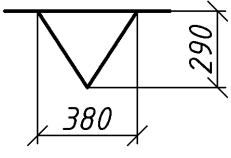
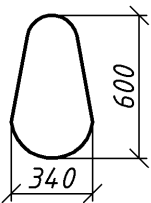
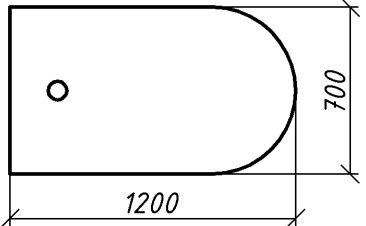
План будівлі дає уявлення про її конфігурацію і розміри, виявляє форму і розміщення окремих приміщень, віконних і дверних прорізів, капітальних стін, сходів, перегородок. На план наносять контури елементів будівлі (стіни, перегородки, колони тощо), що потрапили в розріз і розміщені нижче січної площини. На планах будівель, як правило, показують санітарно-технічне обладнання (ванни, унітази, раковини тощо). Якщо в будівлі використовують пічне опалення, то на плані показують розміщення печей, а також димових та вентиляційних каналів. Ці канали показують і на планах будівель з центральним опаленням.

Санітарно-технічне обладнання викреслюють на планах у тому ж масштабі, що й план будівлі. Розміри санітарно-технічного обладнання, які найчастіше зустрічаються, наведено в табл. 3.

Таблиця 3

Розміри санітарно-технічного обладнання

Раковина	Мийка кухонна на одне відділення	Мийка кухонна на два відділення
		
Умивальник	Піддон душовий	Ванна звичайна
		

Закінчення таблиці 3		
Унітаз	Бачок зливний	Пісуар настінний
		
Біде	Ванна сидяча	
		

Приступаючи викреслювати план, слід пам'ятати, що зображення плану будівлі слід розміщувати довгою стороною вздовж аркуша. Сторону плану, що відповідає головному фасаду будівлі, рекомендовано звертати до нижнього краю аркуша. Визначаючи композицію різних елементів будівлі, слід врахувати місце для проставлення розмірів і маркування координаційних осей. Тому креслення плану повинно розміщуватися на відстані 75-80мм від рамки аркуша.

План рекомендовано виконувати в наступній послідовності:

1. Наносити координаційні осі – спочатку поздовжні, потім поперечні (рис. 6.2). Вони служать для прив'язки будівлі до будівельної координаційної сітки, а також для визначення положення несучих конструкцій, так як ці осі проводять по капітальних стінах чи колонах. В окремих випадках вони можуть не співпадати з осями симетрії стін.

Координаційні осі викреслюють штрих-пунктирними лініями з довгими штрихами товщиною 0,3 – 0,4мм. Їх виводять за контури стін і маркують, як описувалось вище.

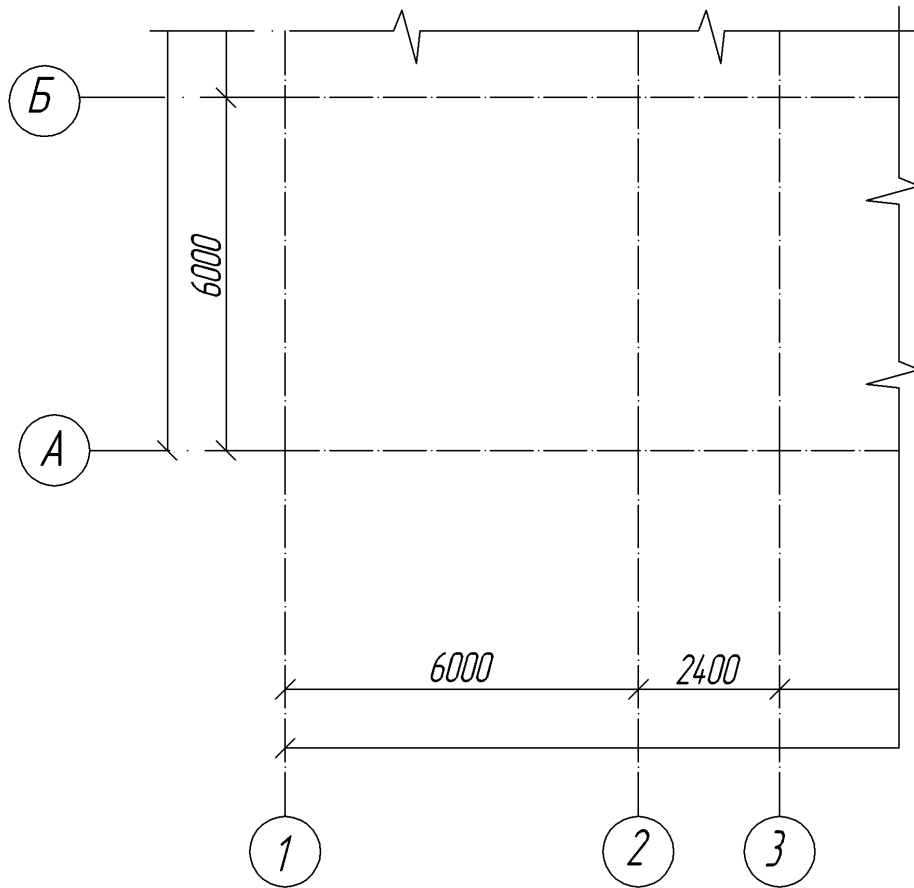


Рис. 6.2. Перший етап виконання плану

2. Викреслювати тонкими лініями (товщина 0,3 – 0,4мм) контури поздовжніх і поперечних зовнішніх і внутрішніх капітальних стін та колон (рис. 6.3). Капітальні внутрішні та зовнішні стіни, колони, інші конструктивні елементи прив'язують до координаційних осей, тобто встановлюють відстань від зовнішньої чи внутрішньої площини стіни до координаційної осі будівлі.

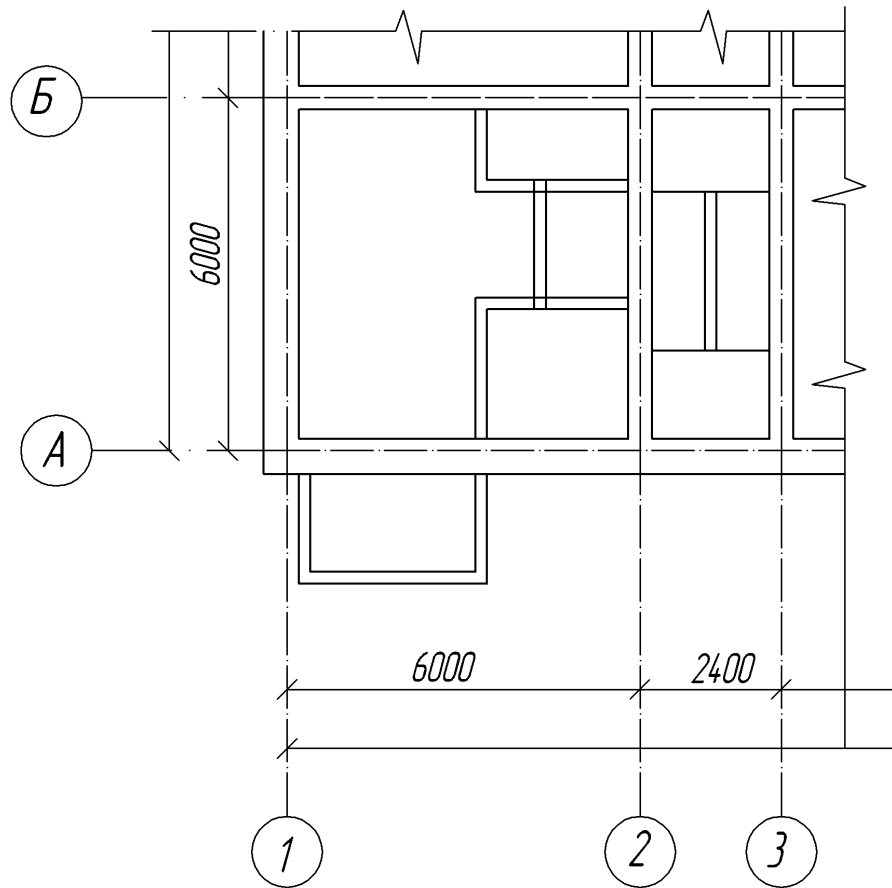


Рис. 6.3. Другий етап виконання плану

В будівлях з поздовжніми та поперечними стінами прив'язку виконують у відповідності з рекомендаціями (рис. 6.4), де зовнішня площина зовнішніх стін знаходиться з лівого боку кожного зображення.

В зовнішніх несучих стінах координаційна вісь проходить від внутрішньої площини стіни на відстані a , що дорівнює половині номінальної товщини b_0 внутрішньої стіни, кратній модулю або його половині. В цегляних стінах ця відстань дорівнює 200мм або модулю, тобто 100мм. У внутрішніх стінах геометрична вісь симетрії суміщається з координаційною віссю.

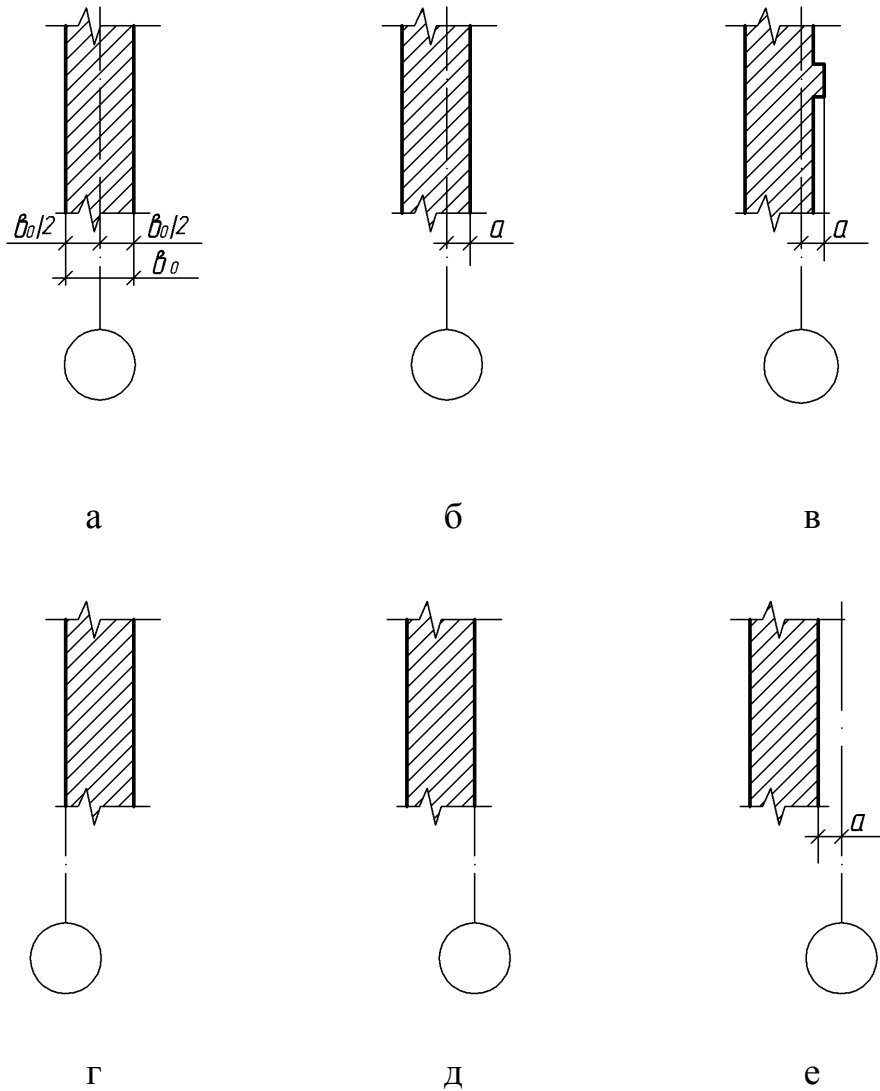


Рис. 6.4. Прив'язка стін до координаційних осей:

а – внутрішніх несучих; б, в – зовнішніх несучих при зміщенні координаційної площини всередину будівлі; г – теж – при впиранні плит перекриття на всю товщину стіни; б, д, е – зовнішніх самонесучих і навісних

Викреслюють контури перегородок тонкими лініями. Слід звернути увагу на приєднання зовнішніх капітальних стін (рис. 6.5а), внутрішніх і зовнішніх капітальних стін (рис. 6.5б) та капітальних стін і перегородок (рис. 6.5в).

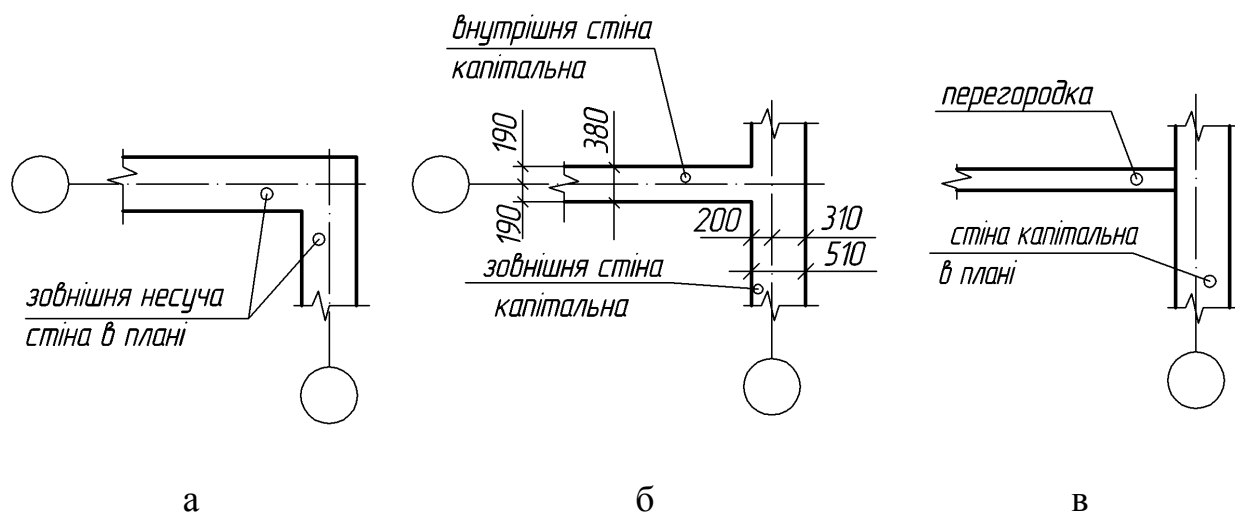


Рис. 6.5. Способи з'єднання стін та перегородок.

3. На третьому етапі виконують розбивку віконних і дверних прорізів, обводять лініями відповідної товщини (рис. 6.6). Умовні позначення віконних і дверних прорізів виконують згідно з ДСТУ Б А.2.4-7-95.

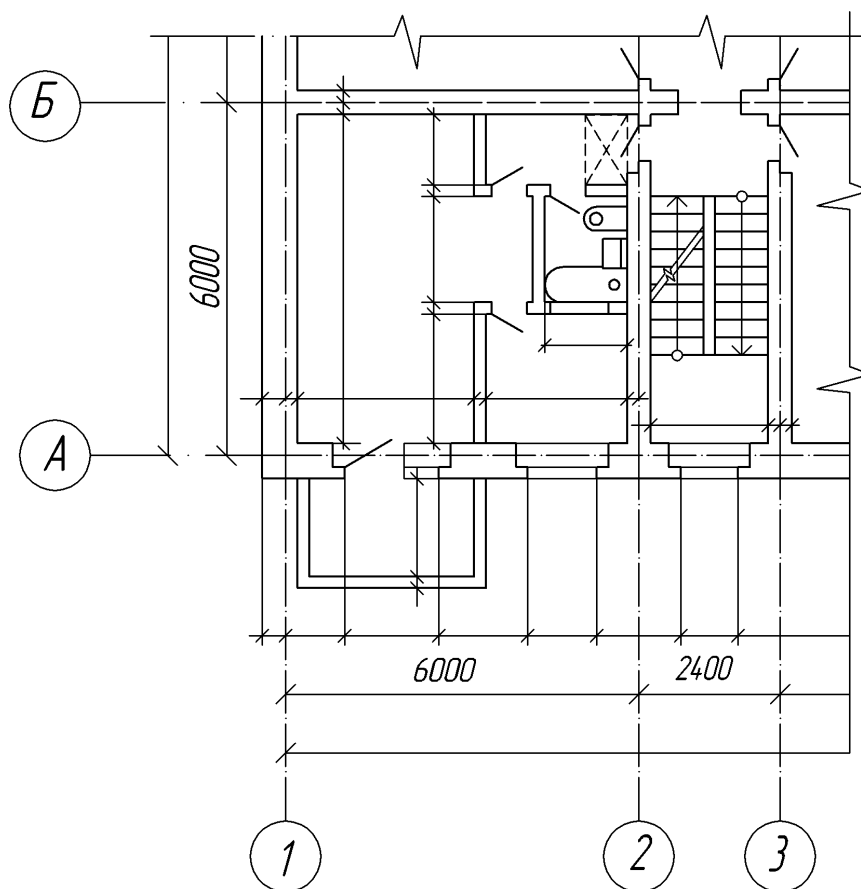


Рис. 6.6. Третій етап виконання плану

При викреслюванні плану в масштабі 1:50 чи 1:100 за наявності в прорізах чвертей їх умовне зображення дають на кресленні. Чверть – це виступ в верхніх і бокових частинах прорізів цегляних стін, що зменшує продувність і полегшує кріплення віконних коробок (рис. 6.7).

При виборі товщини ліній при наведенні креслення слід врахувати, що не несучі конструкції, а саме контури перегородок наводять лініями меншої товщини, ніж несучі капітальні стіни і колони.

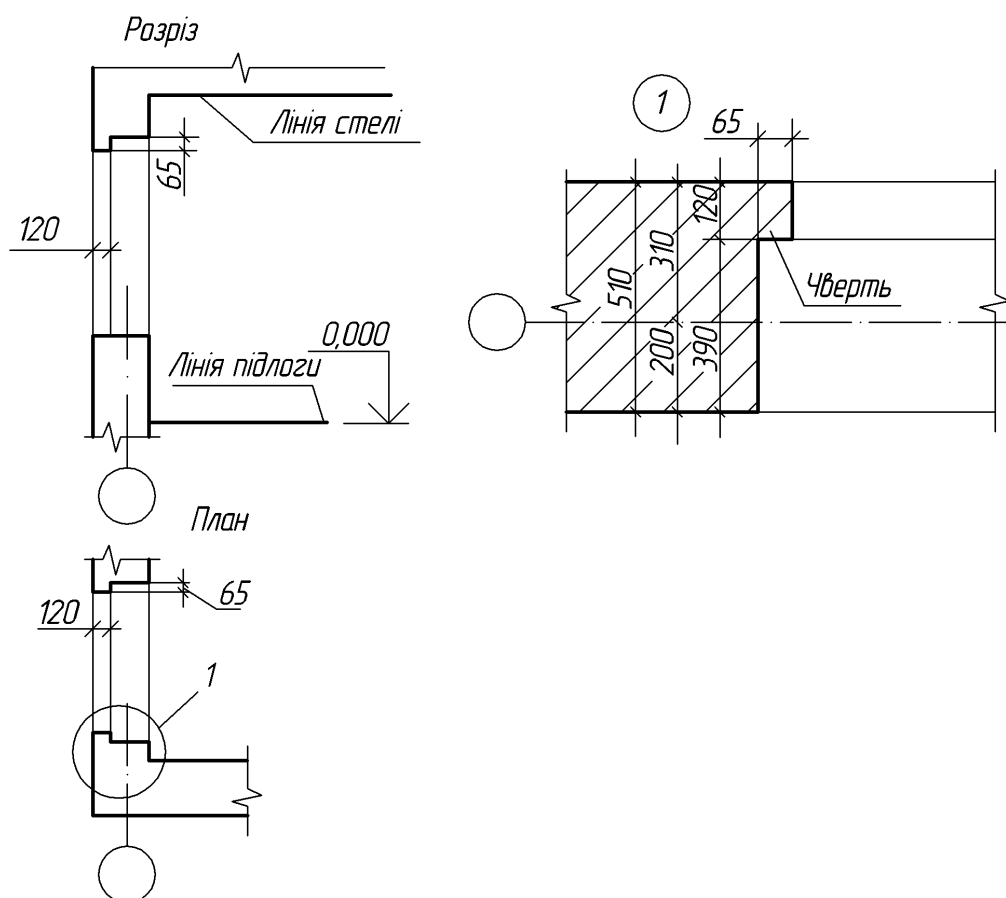


Рис. 6.7. Віконні прорізи з чвертями.

Далі викреслюють умовні зображення сходів, санітарно-технічного й іншого обладнання, а також вказують напрямок відчинення дверей. При виконанні креслень планів будівель графічне позначення печей і приладів

санітарно-технічного обладнання слід викреслювати в масштабі, встановленому для даного плану.

Наносять виносні, розмірні лінії та маркувальні кола.

4. На завершальному етапі проставляють необхідні розміри, марки осей та інших елементів (рис. 6.8). У габаритах плану вказують розміри приміщень, товщини стін, перегородок, прив'язку внутрішніх стін до координаційних осей, перегородок до внутрішніх і зовнішніх стін чи до координаційних осей. Наносять розміри прорізів у внутрішніх стінах і цегляних перегородках, а також їх прив'язку до контурів стін чи до координаційних осей. Розміри дверних прорізів у перегородках на плані не показують.

За габаритом плану, зазвичай у першому ланцюгу, рахуючи від контуру плану, проставляють розміри ширини віконних і дверних прорізів, простінків і виступаючих частин будівлі з прив'язкою їх до осей. У другому ланцюгу наносять розміри між осями капітальних стін і колон. У третьому ланцюгу проставляють розмір між крайніми координаційними осями крайніх зовнішніх стін.

У подальшому виконують необхідні написи. Для цивільних будівель можна писати назву поверху по типу «План 2-го поверху» та наносити січні площини розрізів. Креслення планів поверхів супроводжуються специфікаціями конструктивних елементів, специфікаціями гардеробного обладнання, експлікаціями приміщень, відомостями оздоблення приміщень тощо.

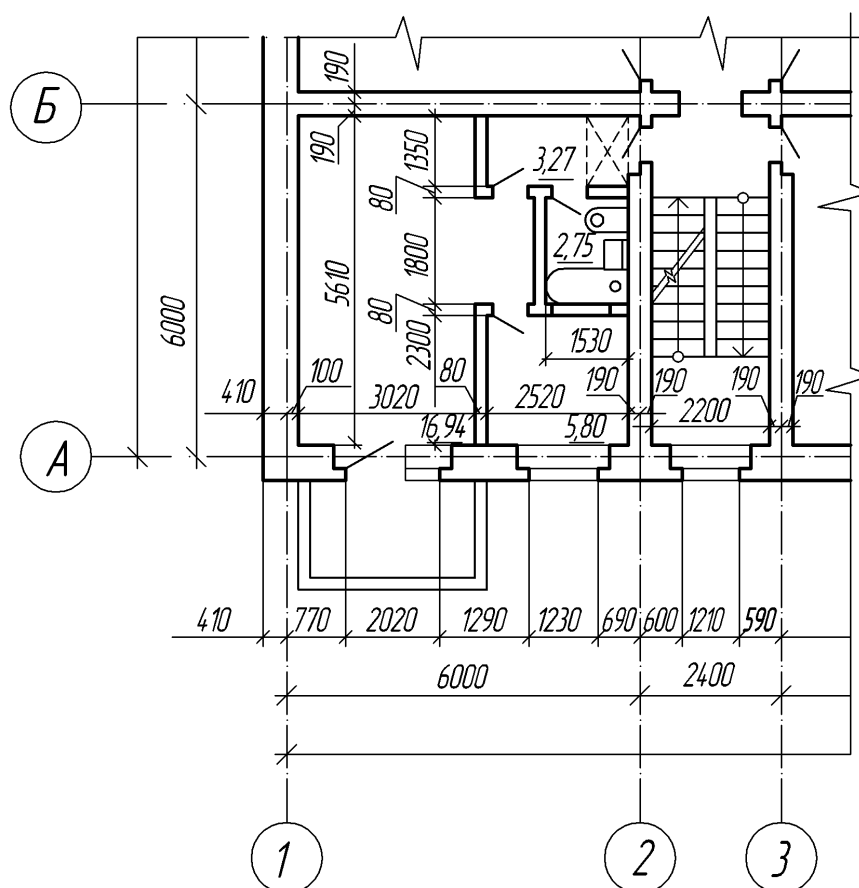


Рис. 6.8. Завершальний етап виконання плану

7. КРЕСЛЕННЯ СХОДІВ

Сходи є відповідальною частиною будівлі. За призначенням їх поділяють на основні або головні, службові або допоміжні. Службові сходи використовуються для сполучення з підвалами, горищами і в якості запасних при евакуації людей у випадку пожежі. Пожежні сходи призначені для зовнішнього доступу на поверхи, горища й дахи.

За матеріалом, з якого виготовлені сходи, їх поділяють на залізобетонні, дерев'яні та металеві. За способом виготовлення розрізняють збірні та монолітні залізобетонні.

Сходи складаються з маршів і майданчиків (рис. 7.1). Марш – це конструкція, що складається з певного числа сходинок. Сходини опираються на балки – косоури, що розміщуються під сходинками. До складу маршів входять загородження – поручні. Висота загородження – 90–95 см. Несучі елементи маршу своїми кінцями спираються на несучі елементи площадок – площадкові балки.

В сучасних будівлях сходи монтують в основному з великорозмірних цільних сходиноквих маршів і майданчиків. Ці елементи виготовляють із залізобетону.

Двомаршові сходи з великорозмірних елементів

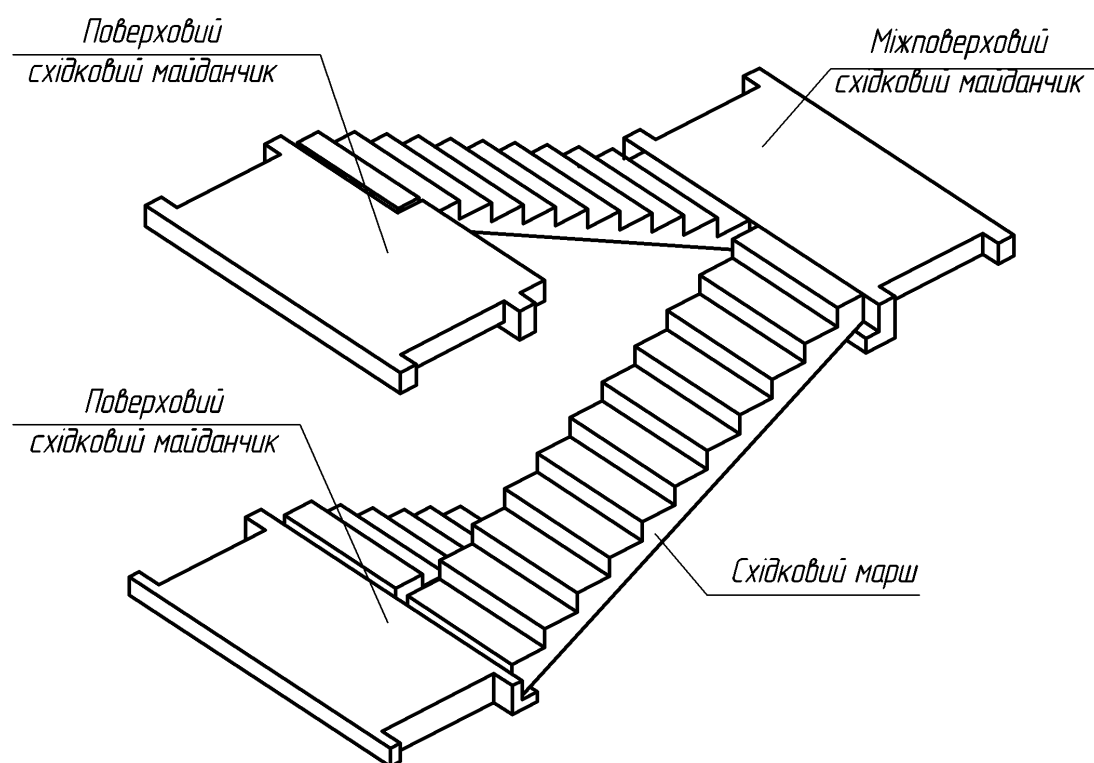


Рис. 7.1. Східковий марш.

Марки великорозмірних східкових маршів складаються з букв і чисел. Букви означають найменування виробу: СМ – сходиноквий марш; СП – сходиноква площадка. Перші дві цифри марки сходиноквого маршу означають висоту поверху в дециметрах, другі – половину ширини сходиноквої клітки в дециметрах. Наприклад СМ 30-11 – це марш для будівлі з висотою поверху 3000мм і шириною сходиноквої клітки 2200мм.

Перші дві цифри марки сходиноквої площадки означають ширину сходиноквої клітки в дециметрах, інші два – ширину сходиноквої площадки в дециметрах. Марка СП 22-15 означає сходинокву площадку, встановлену в сходиноквій клітці шириною 2200мм. Ширина площадки цієї марки 1500мм. Збірні залізобетонні сходи із дрібнорозмірних елементів монтують з окремих костурів, сходинок, площадкових балок і плит. Залежно від кількості маршів, що знаходяться в межах одного поверху, сходи ділять на одно-, дво- і три- маршеві.

Висота підйому одномаршевих сходів дорівнює висоті поверху. В двохмаршевих сходах висота підйому одного маршу приймається рівною половині висоти поверху. Ширину маршів зазвичай беруть в межах 90 – 240см, для допоміжних сходів – не менше 90см, для основних – не менше 105см. Сходинокві марші встановлюють з нахилами 1:2, 1:1,75; 1:1,5. У марші допускається не менше 3 і не більше 18 сходинок. Кожен марш для одного з сходиноквого майданчика буде висхідним, а для другого – низхідним. Висхідний марш починається нижньою фризовою сходиноквою, що служить переходом до майданчика, а низхідний марш – верхньою фризовою сходиноквою (рис. 7.2). Нижня і верхня фризіві сходинокки маршу, що співпадають з підлогою майданчика, мають особливі обриси. Всі інші сходинокки марша однакові. Сходинокки сходів характеризуються висотою підйому h та шириною проступу b . Для зручності користування сходами необхідно, щоб подвоєна висота підйому h і ширина проступу b в сумі дорівнювали середньому кроку людини, що приймається від 570 до 640 мм. Ця величина, як правило, становить 600 мм. Таким чином, $b+2h=600$.

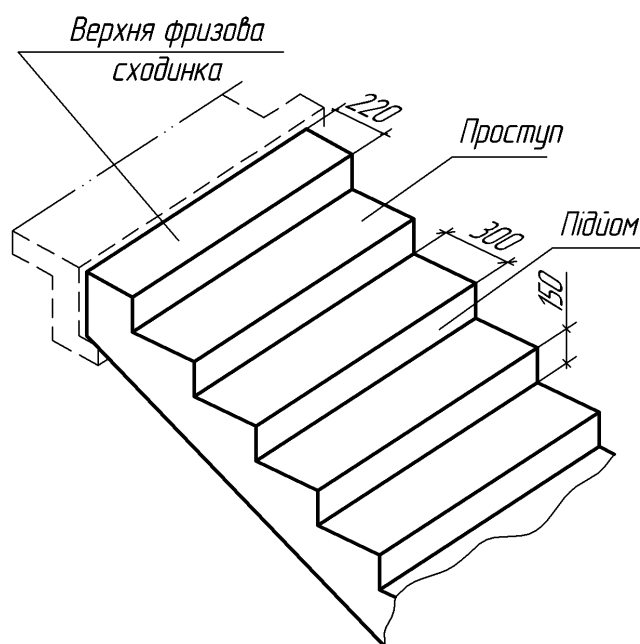


Рис. 7.2. Елементи сходового маршу

Висота підйому знаходиться в межах 135 – 180 мм (найчастіше 150мм). Ширина проступу 250 – 300 мм. Для головних сходів для зав'язки з ЄМС (єдина модульна система) ширину проступу приймають 300 мм, тоді $300+2\times 150=600$.

Сходові майданчики, що встановлюються на рівні кожного поверху, називають поверховими, а між поверхами – проміжними. Ширину сходових

майданчиків приймають не менше ширини маршу і не менше 1200мм, у будівлях з ліфтами майданчики повинні бути шириною не менше 1600мм, а в лікарнях – не менше 1900мм.

Розглянемо приклад розбивки двомаршевих сходів. Попередньо виконують розрахунок, а потім графічні побудови. Нехай висота поверху $H=3000$ мм, ширина марша $l=1050$ мм, нахил сходів 1:2. Для цього нахилу вибирають сходинок 150×300 мм. Ширина сходиноквої клітки B дорівнює сумарній ширині обох маршів плюс проміжок між ними. Проміжок, що необхідний для пропуску пожежного шланга, повинен бути не менше 100 мм. Приймавши проміжок 100 мм, отримаємо:

$$B=2l+100=2 \times 1050+100=2200\text{мм.}$$

Висота одного маршу буде $H:2=3000:2=1500\text{мм}$. Число підйомів в одному марші $n=1500:150=10$.

Число проступів в одному марші буде на одиницю менше числа підйомів, бо верхній проступ розміщується на рівні площадки. Тому при викреслюванні сходів у плані потрібно підраховувати кількість сходинок не по проміжках між лініями, а по самих лініях, що позначають границю сходинок.

Довжина горизонтальної проекції маршу (його закладання) буде:

$$d=300(n-1) = 300(10-1)=300 \times 9=2700\text{мм.}$$

Приймаючи ширину проміжного майданчика $C_1=1650\text{мм}$, а ширину поверхового $C_2=1300\text{мм}$, визначаємо повну мінімальну довжину сходиноквої клітки:

$$L=d+ C_1+ C_2+2700+1650+1300=5650\text{мм.}$$

Графічну розбивку сходів виконують у такій послідовності: висоту поверху ділять на число частин, що дорівнює числу підйомів на поверсі; через отримані точки проводять горизонтальні прямі лінії (рис. 7.3). Потім горизонтальну проекцію (закладання маршу) ділять на число проступів без однієї; через отримані точки проводять вертикальні прямі. По отриманій сітці викреслюють профіль сходів. Контури стін сходиноквої клітки наводять лініями товщиною прийнятою для плану поверхів, контури сходинок площадки тощо – лініями товщиною $S/2$. На кресленнях сходові клітки зображують у плані (в масштабі 1:100) в розрізі (в масштабі 1:50 або 1:100).

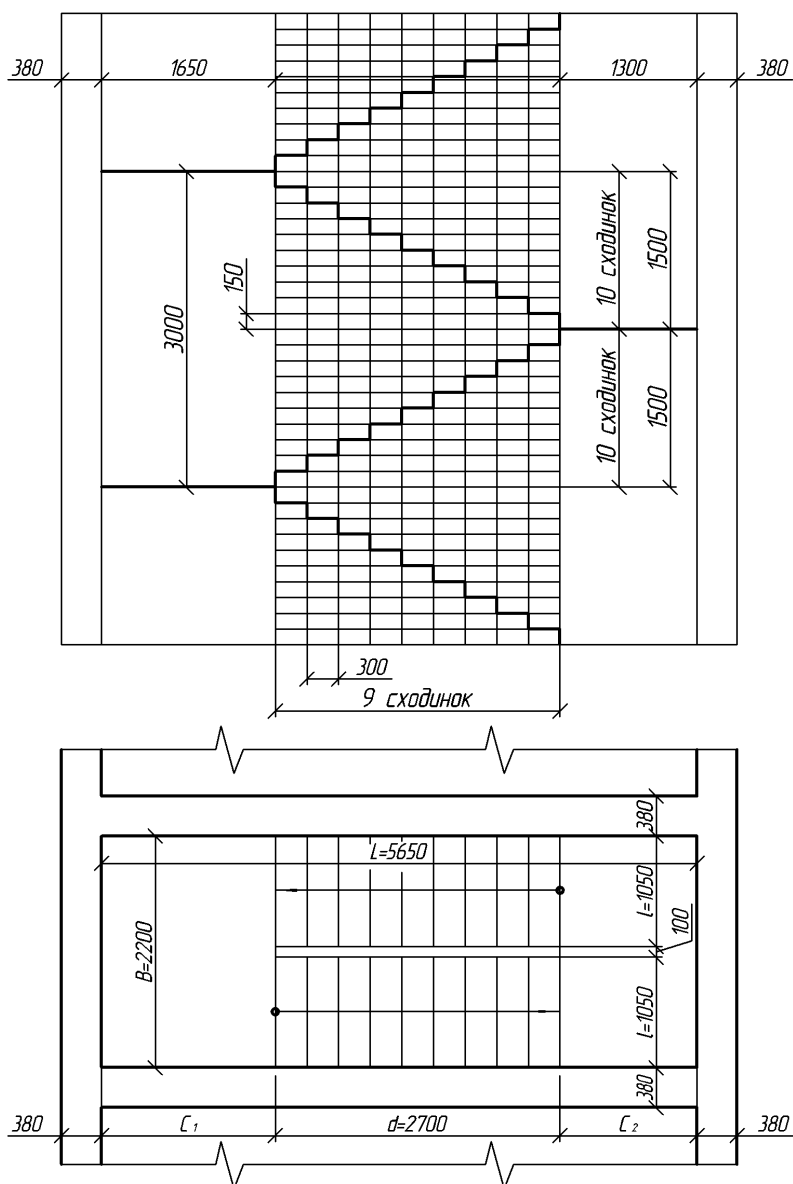


Рис. 7.3. Графічна розбивка сходового маршу

На робочих кресленнях сходів вказують марку сходинок, сходинок, марку координаційних осей стін сходинок, тощо. Крім того, креслення супроводжують необхідними пояснюючими написами й умовними позначеннями. На кресленні сходинок наносять усі необхідні розміри, які не вказані на планах і розрізах, а також розміри між координаційними осями. На сходинок показують контур загорожі.

Інколи в будівлях із збірних елементів монтажні схеми установки і огорожі виконують окремо. Креслення великоблочних сходів із збірних маршів і площадок наведено на рис. 7.4.

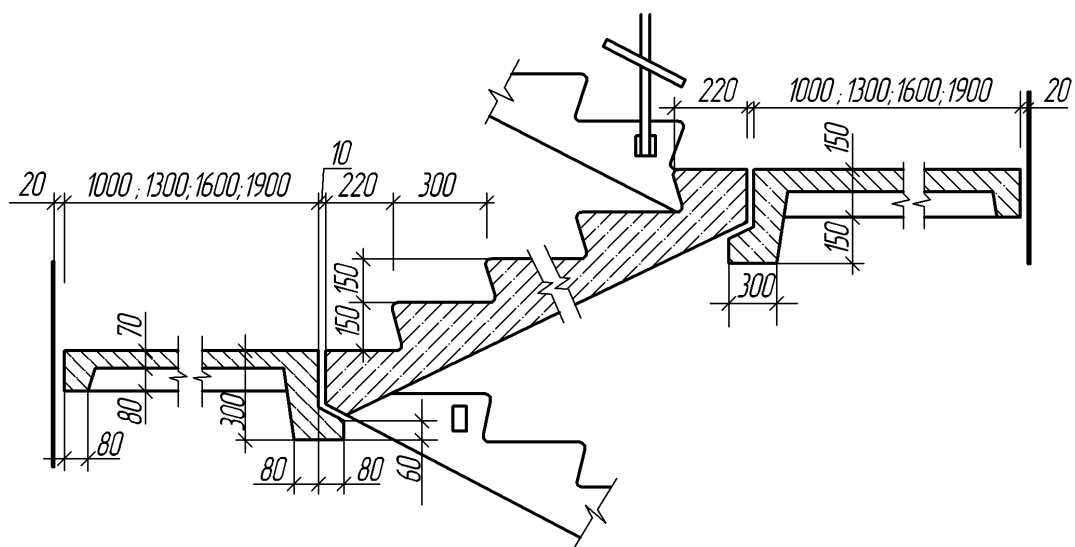


Рис. 7.4. Збірні великоблокові сходи

8. ВИКОНАННЯ РОЗРІЗІВ БУДІВЕЛЬ

Розрізом називають зображення будівлі уявно розрізаної вертикальною площиною. Розрізи на будівельних кресленнях служать для виявлення об'ємного та конструктивного вирішення будівлі, взаємного розміщення окремих конструкцій, приміщень тощо. Розрізи поділяють на архітектурні та конструктивні.

Архітектурний розріз служить, головним чином, для встановлення композиційних сторін внутрішньої архітектури. На такому розрізі показують висоту приміщень, віконних і дверних прорізів, цоколя та інших архітектурних елементів. Висота цих елементів найчастіше встановлюється позначками. На архітектурному розрізі товщину горищного перекриття, конструкцію даху і фундаментів не показують.

Архітектурні розрізи виконують на початковій стадії проектування і на них не показують конструкції фундаментів, перекриттів, дахів тощо. Такі розрізи використовують для опрацювання фасадів будівель.

Конструктивні розрізи входять до робочих креслень проекту будівлі. На цьому типі розрізів показують конструктивні елементи будівлі, а також наносять необхідні розміри та позначки. Прорізи, сходи зображують умовними позначеннями згідно з ДСТУ Б А.2.4-7-95. На будівельних кресленнях

використовують прості, ступінчасті, поздовжні та поперечні розрізи. Проте рекомендовано використовувати прості розрізи (однією площиною).

Напрямок поглядів приймають, як правило, по плану знизу вгору або справа наліво. При виконанні поперечного розрізу січну площину розміщують перпендикулярно гребеню даху або найбільшому розміру будівлі; при поздовжньому розрізі вона паралельна їм.

Напрямок січної площини, як правило, вибирають таким, щоб вона проходила через найбільш важливі в конструктивному і архітектурному відношенні частини будівлі: віконним і дверним прорізам, сходишковим кліткам (бажано по одному з маршів), балконам, шахтам підйомників тощо. Слід врахувати, що в розрізах по сходах січну площину, як правило, проводять по маршу, розміщеному ближче до спостерігача. При цьому марш сходів, що потрапив у розріз, наводять лінією більшої товщини (суцільна основна), ніж контур маршу, по якому січна площина не проходить. Контур цього маршу наносять суцільною тонкою лінією.

На розрізах рекомендовано зображати не всі елементи, розміщені за січною площиною, а лише ті, які розміщені в безпосередній близькості від неї.

В розрізах будівель і споруд підлогу на ґрунті зображають однією суцільною товстою лінією. Підлогу на перекритті й покрівлю викреслюють однією суцільною лінією. Таке зображення підлоги на ґрунті, перекритті й покрівлі дається незалежно від числа шарів у їх конструкції. Склад і товщину шарів вказують у виносних написах.

На кресленнях розрізів наносять і вказують: координаційні осі будівлі, відстань між цими осями, відстань між крайніми координаційними осями. За необхідності вказують товщину стін і їх прив'язку до координаційних осей. Крім цього, на кресленнях розрізів вказують: позначки рівня землі; чистої підлоги; поверхів і площадок; низу несучих перекриттів одноповерхових будівель і низу плит перекриття верхнього поверху багатоповерхових будівель; верху стін, карнизів, виступів стін; розміри і прив'язку по висоті прорізів, ніш і гнізд у стінах і перегородках, що зображені в перерізі.

Взагалі, на розрізах повинні бути нанесені всі розміри й позначки необхідні для встановлення розміщення окремих елементів будівлі. Проте не рекомендовано дублювати ті розміри, що є на плані. Виняток становлять тільки розміри між координаційними осями.

Послідовність виконання розрізів будівель така (рис. 8.1).

1. Насамперед проводять горизонтальну пряму, яку приймають за рівень підлоги першого поверху (тобто її рівень дорівнює позначці 0,000). Для побудови різних елементів розрізу використовують деякі розміри, що є на плані, наприклад, відстані між координаційними осями, товщину внутрішніх і зовнішніх капітальних стін і перегородок, ширину віконних і дверних прорізів.

2. Потім проводять другу горизонтальну лінію, що визначає планувальну поверхню землі.

3. Далі на першій горизонтальній лінії, що позначає лінію підлоги, відкладають відстань між відповідними координаційними осями. Ці розміри беруть з креслення плану будівлі. Через ці точки проводять вертикальні прямі (осі стін).

4. По обидві сторони від вертикальних прямих на відстані, що визначає товщину зовнішніх, внутрішніх стін і перегородок, які потрапили в розріз, проводять тонкими лініями їх контури. Потім проводять горизонтальні контури підлоги, стелі, перекриття тощо.

5. Проводять контури перекриття.

6. Зображають інші елементи будівлі, розміщені за січною площиною (дах, перегородки тощо), розмічають контури прорізів.

7. Проводять виносні та розмірні лінії, викреслюють знаки висотних позначок.

8. Обводять контури розрізу лініями відповідної товщини, наносять необхідні розміри, позначки, марки осей тощо. Роблять необхідні написи і витирають непотрібні лінії побудов.

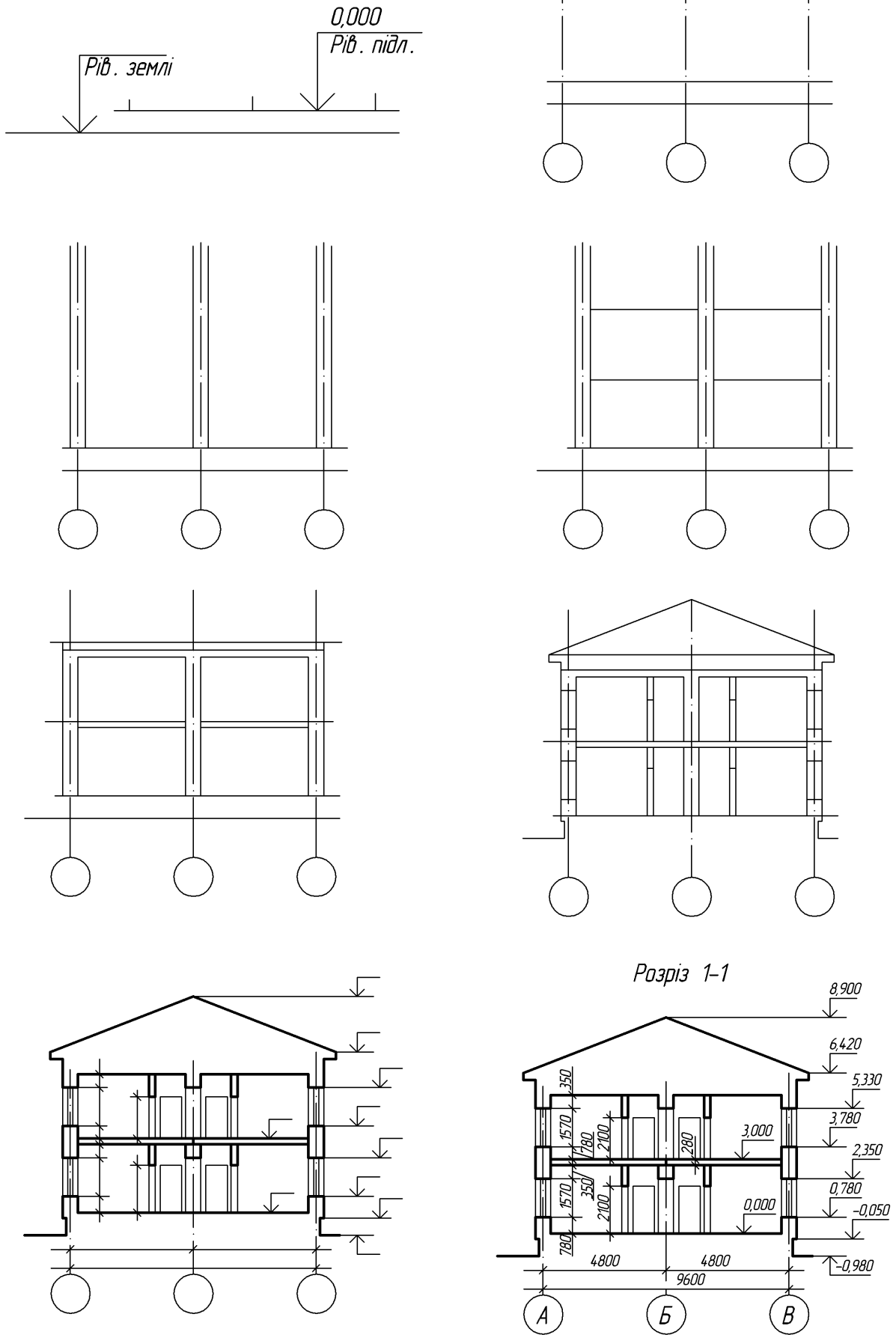


Рис. 8.1. Послідовність виконання розрізу будівлі.

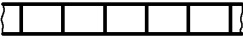

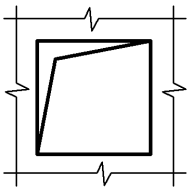

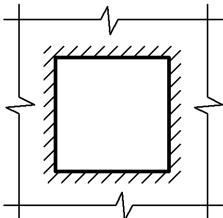
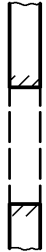
На відміну від розрізів у машинобудівному кресленні, конструктивні елементи будівлі, що потрапили в розріз, проте виконані з матеріалу, що є основним для даної будівлі, не штрихують. У цьому випадку тільки ділянки стін, що відрізняються матеріалом, виділяють умовною штриховкою.

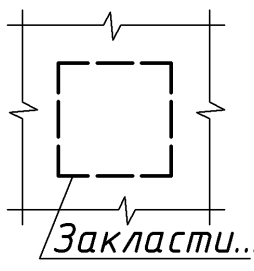






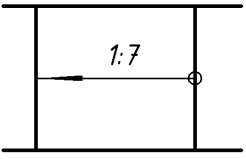
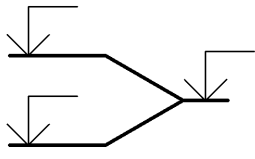
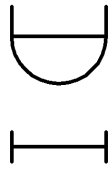
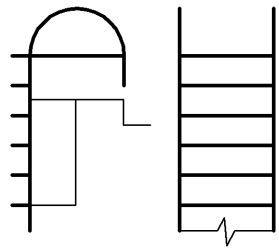
9. УМОВНІ ГРАФІЧНІ ЗОБРАЖЕННЯ БУДІВЕЛЬНИХ КОНСТРУКЦІЙ ТА ЇХ ЕЛЕМЕНТІВ

Умовні зображення елементів будівель наведено в ДСТУ Б А.2.4-7-95. У таблиці №4 наведені найменування та зображення частини будівельних конструкцій.

Таблиця 4

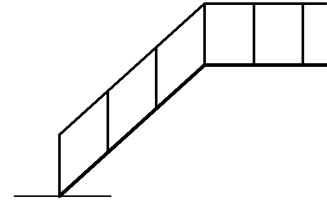
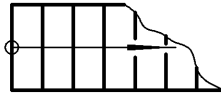
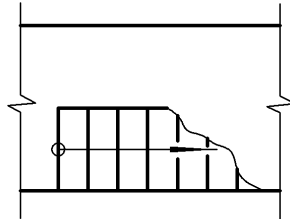
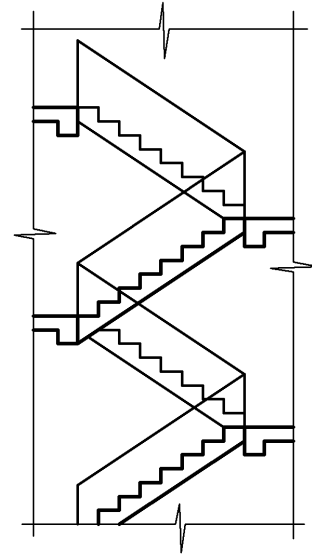
Умовні графічні зображення будівельних конструкцій, їх елементів

Найменування	Зображення	
	в плані	в розрізі
1. Перегородка зі склоблоків Примітка. На кресленнях у масштабі 1:200 і менше допускається позначення всіх видів перегородок однією суцільною товстою основною лінією		
2. Прорізи 2.1. Проріз (що проектується без заповнення)		
2.2. Проріз, який належить пробити в існуючій стіні, перегородці, покритті, перекритті		

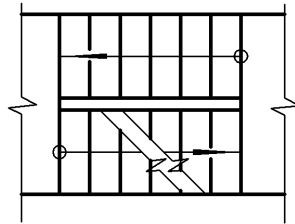
<p>2.3. Проріз в існуючій стіні, перегородці, покритті, перекритті, який належить закласти</p> <p>Примітка. В пояснюючому написі замість крапок вказують матеріал закладки</p>		
<p>2.4. Прорізи а) без чверті</p>		
<p>б) з чвертю</p>		
<p>в) у масштабі 1:200 і менше, а також для креслень елементів конструкцій заводського виготовлення</p>		
<p>3. Пандус Примітка. Уклон пандуса вказують у плані у відсотках (наприклад, 10.5%) або у вигляді відношення висоти і довжини (наприклад, 1:7). Стрілкою на плані показано напрямок спуску</p>		
<p>4. Сходи 4.1. Сходи металеві: а) вертикальні</p>		

Продовження таблиці 4

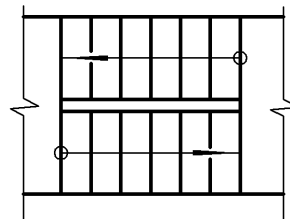
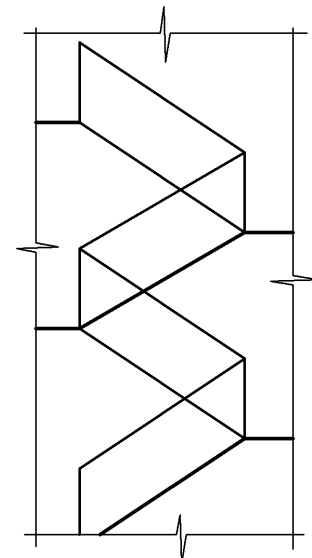
в) похилі



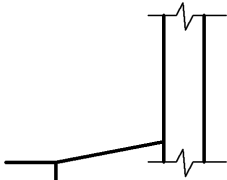
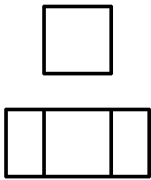
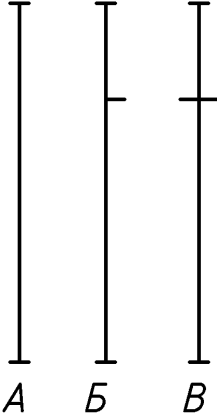
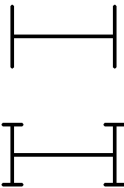

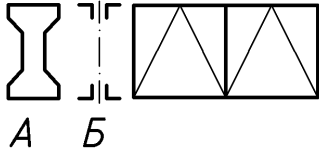

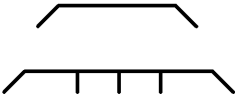

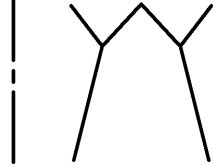
4.2. Сходи:
а) нижній маршВ масштабі 1:50 і
більше

б) проміжний марш

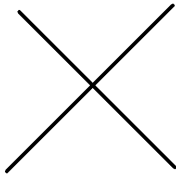


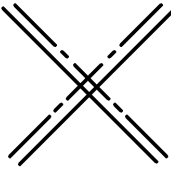


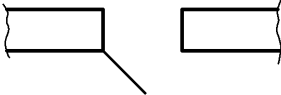
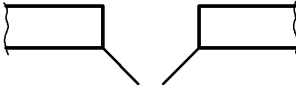
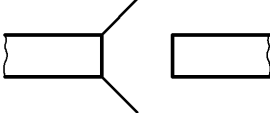
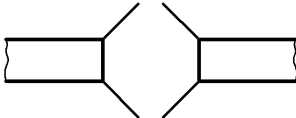

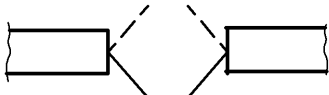






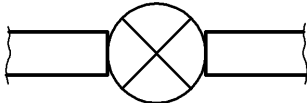
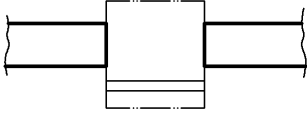
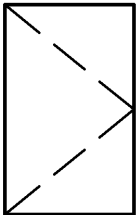
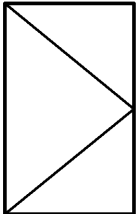

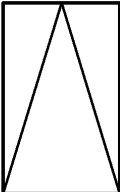
в) верхній марш

В масштабі 1:100 і
менше а також для
схем розміщення
елементів збірних
конструкційПримітка.
Стрілкою показано напрям
підйому маршу


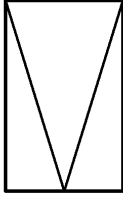
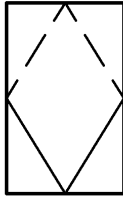
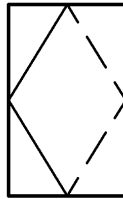
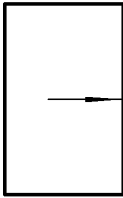
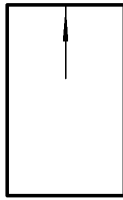

5. Елемент існуючий, що підлягає розбиранню		
6. Вимощення		
7. Колона а) залізобетонна: - суцільного перерізу - двогілкова		
а) металева: - суцільностінна - двогілкова Примітка. Зображення А – для колон без консолей, Б і В – для колон з консолюю		
8. Ферма Примітка. Зображення А – для ферми залізобетонної, Б – для ферми металевої		
9. Плита, панель		
10. З'єднання металеве а) одноплощинне: - вертикальне		

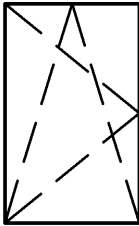
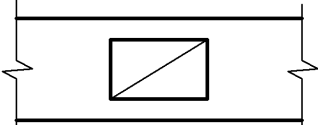
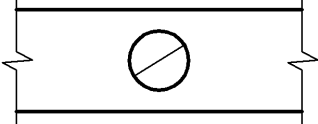


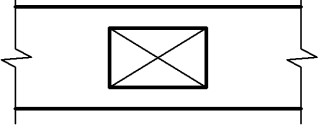
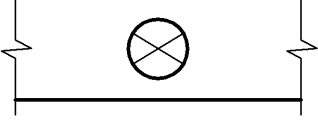

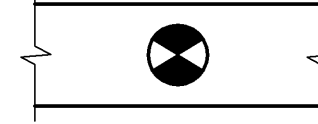
Продовження таблиці 4

- горизонтальне		
б) двоплощинне		
в) тяжі		
Найменування	Зображення	
11. Двері, ворота 11.1. Двері одностулкові		
11.2. Двері двостулкові		
11.3. Двері подвійні одностулкові		
11.4. Двері подвійні двостулкові		
11.5. Двері одностулкові з хитким полотном (права або ліва)		
11.6. Двері двостулкові з хитким полотном		

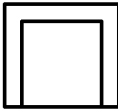
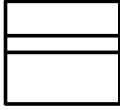



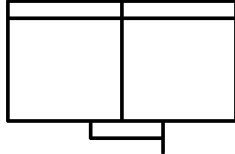


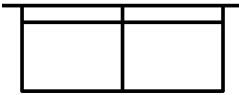

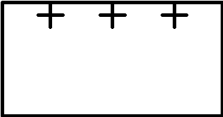
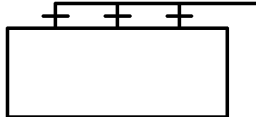
Продовження таблиці 4	
11.7. Двері (ворота) відкатні одностулкові	
11.8. Двері (ворота) розсувні двостулкові	
11.9. Двері (ворота) підйомні	
11.10. Двері складасті	
11.11. Двері, що обертаються	
11.12. Ворота підйомно-поворотні	
12. Рами віконні	
12.1. Рама з боковим підвішуванням, що відчиняється всередину	
12.2. Те саме, що відчиняється назовні	
12.3. Рама з нижнім підвішуванням, що відчиняється всередину	
12.4. Те саме, що відчиняється назовні	

Продовження таблиці 4

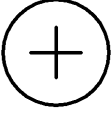
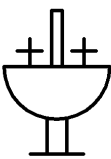
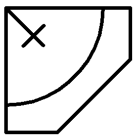
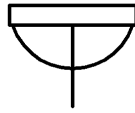



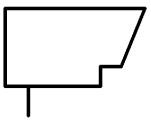


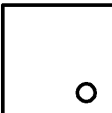






12.5. Рама з верхнім підвішуванням, що відчиняється всередину	
12.6 Те саме, що відчиняється назовні	
12.7. Рама з середнім підвішуванням горизонтальним	
12.8. Те саме, вертикальним	
12.9. Рама розсувна	
12.10. Рама з підйомом	
12.11. Рама глуха	

12.12. Рама з боковим або нижнім підвішуванням, що відчиняється всередину Примітка. Вершину значка (зображеного штрихами) направляти до обв'язки, на яку не навішують раму		
	Зображення в масштабах	
Найменування	1:50 і 1:100	1:200
	13. Канали димові і вентиляційні 13.1. Вентиляційні шахти і канали	 
13.2. Димові труби (тверде паливо)	 	
13.3. Димові труби (рідке паливо)	 	
13.4. Газовідвідні труби	 	

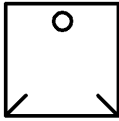


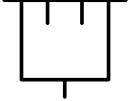
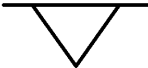
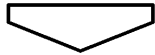
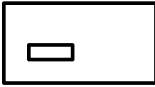
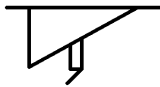
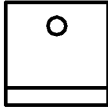


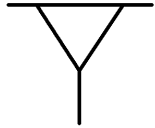

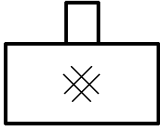
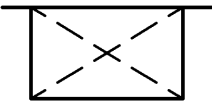
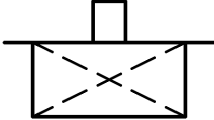
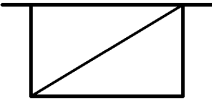


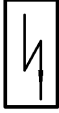
Умовне графічне зображення елементів санітарно-технічних пристроїв
(ГОСТ 2.786-70)

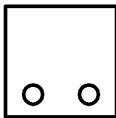

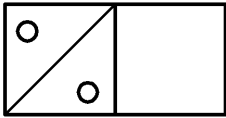
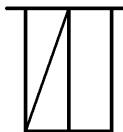
Найменування	Зображення	
	На вигляді згори і на плані	На виглядах з переду або збоку, на розрізах і схемах
Мийне та ванне обладнання		
1. Раковина прямокутна		
2. Мийка кухонна: на одне відділення		
на два відділення		
3. Умивальник: на одне відділення		
на два відділення		
груповий (корито)		

Продовження таблиці 5

груповий круглий		
кутовий Примітка. Кількість хрестиків у позначенні повинна відповідати кількості кранів		
4. Ванна: звичайна		
сидяча		
для ніг		
5. Піддон душовий		
6. Сітка душова		
Обладнання вбиралень		
7. Унітаз: з прямим випуском		
з підлоговим випуском		

Продовження таблиці 5

8. Чаша клозетна підлогова		
9. Бачок зливний		
10. Пісуар: настінний без сифона		
лотковий		
підлоговий (уринал)		
11. Біде		
Кухонні плити і водопідігрів		
12. Водонагрівач на твердому паливі		
13. Водонагрівач на рідкому паливі		
14. Водонагрівач газовий		
15. Водонагрівач електричний		

Закінчення таблиці 5		
16. Плита кухонна: газова		
Комбінована (наприклад, вугілля- газ)		

10. ЗМІСТ ЗАВДАННЯ

Графічну роботу з розділу «Будівельне креслення» студенти виконують по варіантах (табл. 6). Кожен студент отримує схему плану поверху будинку (схеми розміщені в додатку А). На схемі всі зовнішні та внутрішні стіни відображені контурними лініями. В розриві зовнішніх стін проставлені написи –Пр-1, Пр-2, Пр-3, Пр-4. Ці написи означають, що в стіні є віконні прорізи різних розмірів. В розриві внутрішніх стін у кружечках проставлені числа 1,2,3,4. Вони означають, що в стінах є дверні прорізи різних розмірів. Посередині кожного приміщення в кружечках проставлені числа 1,2,3,4, які означають, що приміщення мають різні призначення:

1. Житлове приміщення.
2. Кухня.
3. Ванна.
4. Туалет.

На схемі показані розміри кожного приміщення й габаритні розміри будинку. Через зовнішні та деякі внутрішні стіни проведені координаційні осі, які за межами плану закінчуються великими кружечками. Координаційні осі проводять тільки по капітальних зовнішніх та внутрішніх стінах. Стіни, по яких не проходять координаційні осі, вважаються перегородками.

Виконуючи цю графічну роботу студент за схемою викреслює план поверху, на якому замість зовнішніх та внутрішніх контурних ліній, по яких проведені координаційні осі, зробити відображення зовнішніх та внутрішніх

капітальних стін певної товщини. Замість Пр1,2,3,4, та кружечків з номерами зробити відображення віконних та дверних прорізів відповідних розмірів. Замість контурних ліній, по яких не проходять координаційні осі, зобразити перегородки. План виконати на аркуші формату А3 в масштабі 1: 100. На плані застосувати основний напис для будівельних креслень. План розмістити довшою стороною будинку вздовж формату. Головний фасад розмістити з боку основного напису.

Таблиця 6

Варіанти завдань

Варіант	Рисунок схеми
1,11,21,31	1
2,12,22,32	2
3,13,23,33	3
4,14,24, 34	4
5,15,25,35	5
6,16,26,36	6
7,17,27,37	7
8,18,28,38	8
9,19,29,39	9
10,20,30,40	10

10.1. Порядок виконання плану

1.Провести штрих-пунктирними лініями поперечні та поздовжні координаційні осі. Ці осі розмістити так, аби було достатньо місця з усіх боків плану для того, щоб потім проставити всі необхідні розміри.

2. Прокреслити тонкими лініями контури поздовжніх та поперечних зовнішніх та внутрішніх капітальних стін. Товщину капітальних стін взяти 510мм, внутрішніх – 380мм. Розміщення капітальних стін відносно координаційних осей, а також їх стикування виконати як показано на рис.10.1а

3. Викреслити контури перегородок тонкими лініями. Перегородки виконати товщиною 120 мм, а їхнє стикування з капітальними стінами зробити як показано на рис. 10.1б.

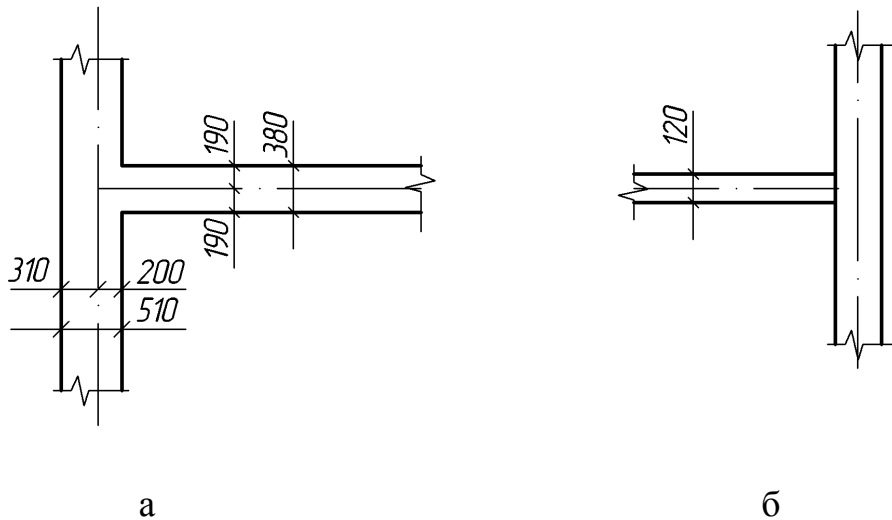


Рис. 10.1. Стикування стін і перегородок

4. Виконати розбивку віконних та дверних прорізів і обвести контури капітальних стін і перегородок. Товщина ліній капітальних стін – 1мм, перегородок – 0,4 мм. Віконні прорізи виконати без чверті. Розміри віконних та дверних прорізів наведені в таблиці 7.

Таблиця 7

Розміри віконних та дверних прорізів

Віконні прорізи			Дверні прорізи		
Позначення	Ширина b,мм	Висота h,м	Позначення	Ширина b,мм	Висота h,мм
Пр1	760	1810	1	710	2070
Пр2	1210	1810	2	910	2070
Пр3	1360	1810	3	1310	2370
Пр4	1510	1810			

5. Викреслити умовні позначення сходів, санітарно-технічного обладнання (в кухні – плита газова, мийка кухонна; в туалеті – унітаз, у ванні – ванна, умивальник .

6. Нанести виносні та розмірні лінії, а також маркувальні кола координаційних осей. Розмірні лінії проставити в три розмірні ланцюги.

7. Проставити необхідні розмірні числа, марки осей, інших елементів. За габаритами плану, в першому ланцюжку, рахуючи від контуру плану, розмістити розміри ширини віконних і дверних прорізів, простінків, виступаючих частин будинку з прив'язкою їх до координаційних осей. В другому ланцюжку – розміри між координаційними осями. У третьому – поставляють розміри між крайніми координаційними осями. Розміри проставляють зо усіх боків плану. В габаритах плану вказують розміри приміщень, товщину стін, перегородок, прив'язку внутрішніх стін до осей, перегородок до внутрішніх і зовнішніх стін. Наносять розміри прорізів у внутрішніх стінах і т.д.

8. Виконати необхідні написи. В кожному приміщенні вказати площу кімнати, цифри розмістити справа внизу і їх підкреслити. Над планом зробити напис “План 11 поверху”.

9. Позначити площини розрізів.

Зразок виконання плану наведено в додатку Б.

10.2. Розріз двоповерхового житлового будинку

Для виконання розрізу будівлі на плані треба нанести січну площину (розімкнена лінія товщиною 1–1,5 мм) із вказівкою напрямку погляду. Січна площина повинна проходити по сходовій клітині. При виконанні цієї графічної роботи необхідні розміри (товщини зовнішніх та внутрішніх капітальних стін, перегородок, габарити приміщень та будівлі) взяти з плану.

Розріз виконують у такій послідовності:

1. Проводять горизонтальну пряму, яку приймають за рівень підлоги першого поверху (тобто її рівень умовно приймають за нуль).

2. Від рівня підлоги першого поверху вниз відкладають 2400 мм і цей розмір приймають за рівень подошви фундаменту (-2,400). Ширина подошви фундаменту дорівнює 1400 мм.

3. Від рівня підлоги першого поверху вниз відкладають товщину підлоги і проводять другу горизонтальну лінію, яка буде визначати заплановану позначку (-1,000) поверхні землі.

4. Від рівня підлоги першого поверху вниз відкладають 800 мм і цей розмір приймають за рівень підлоги тамбуру (-0,800).

5. Проводять вертикальні координаційні осі. Відстані між координаційними осями взяти з плану.

6. По обидві сторони від координаційних осей відкладають відповідні розміри товщини зовнішніх та внутрішніх капітальних стін, які потрапили в розріз.

7. Від лінії чистої підлоги вверх відкладають висоту приміщення першого поверху (3000 мм), товщину перекриття (300 мм), висоту приміщення другого поверху (3000 мм) та товщину покриття.

8. На відстані 800 мм від рівня підлоги кожного поверху в зовнішніх капітальних стінах відображають низ віконного прорізу.

9. Від низу віконного прорізу вгору відкладають висоту вікна (1600 мм).

10. Наносять перегородки, вікна та двері в стінах і перегородках, які знаходяться за січною площиною.

11. Відображають сходову клітину в розрізі.

12. Виконують штриховку стін, перегородок і фундаментів, які потрапили в площину розрізу. Стіни – з цегли, перегородки – з гіпсобетону, фундаменти – з бетону.

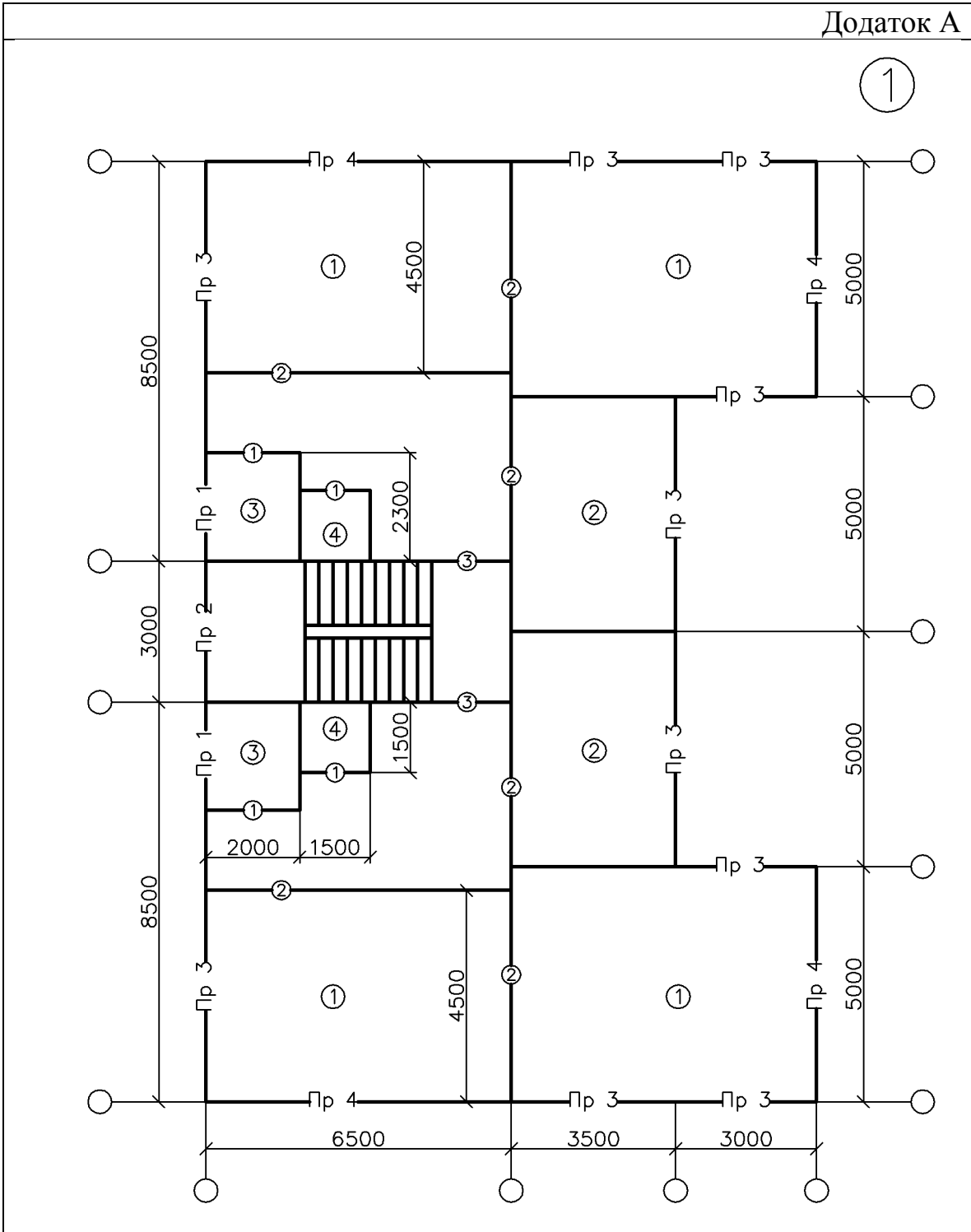
13. Наносять зовнішні та внутрішні розміри шрифтом №5.

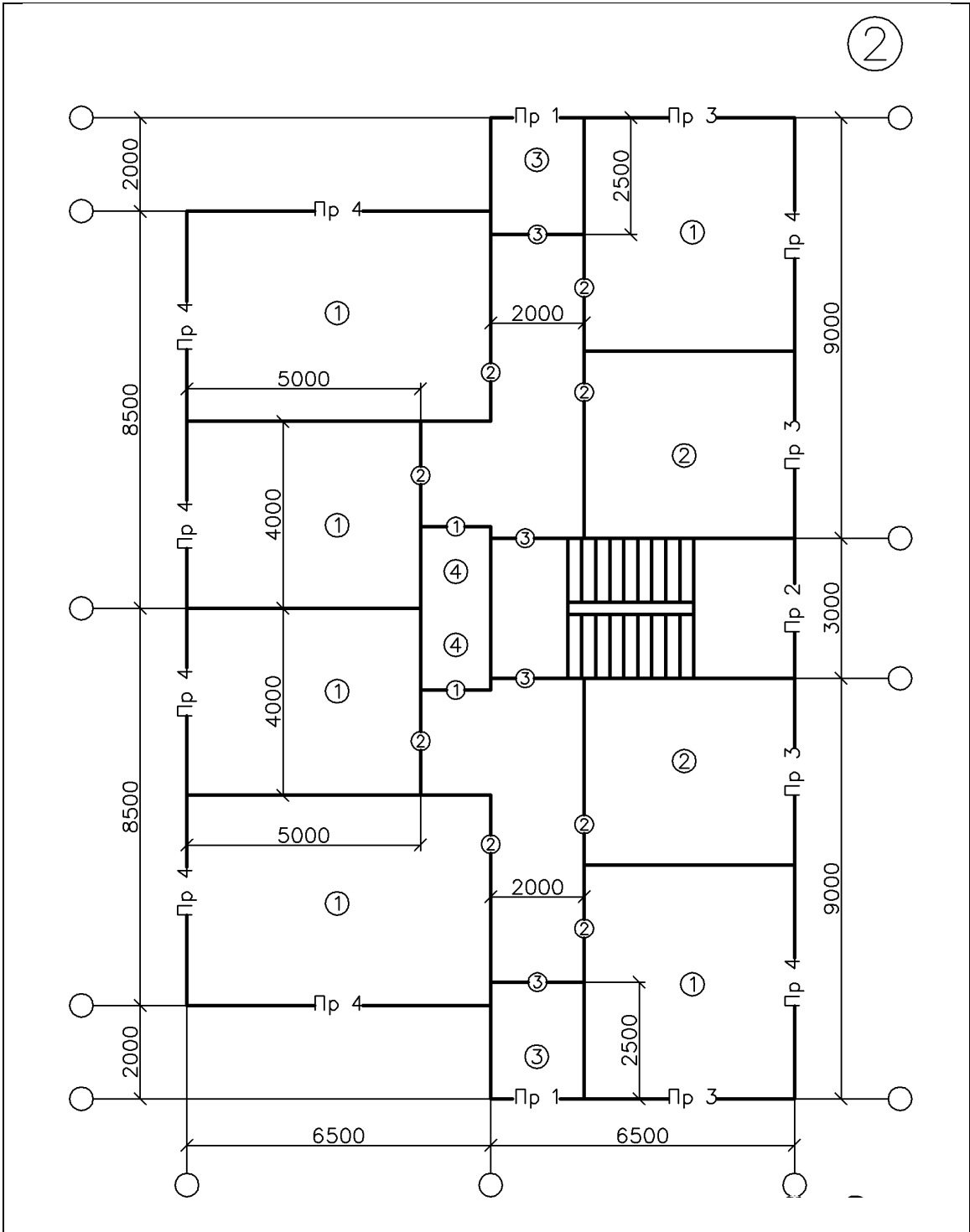
14. Перевіряють та наводять креслення.

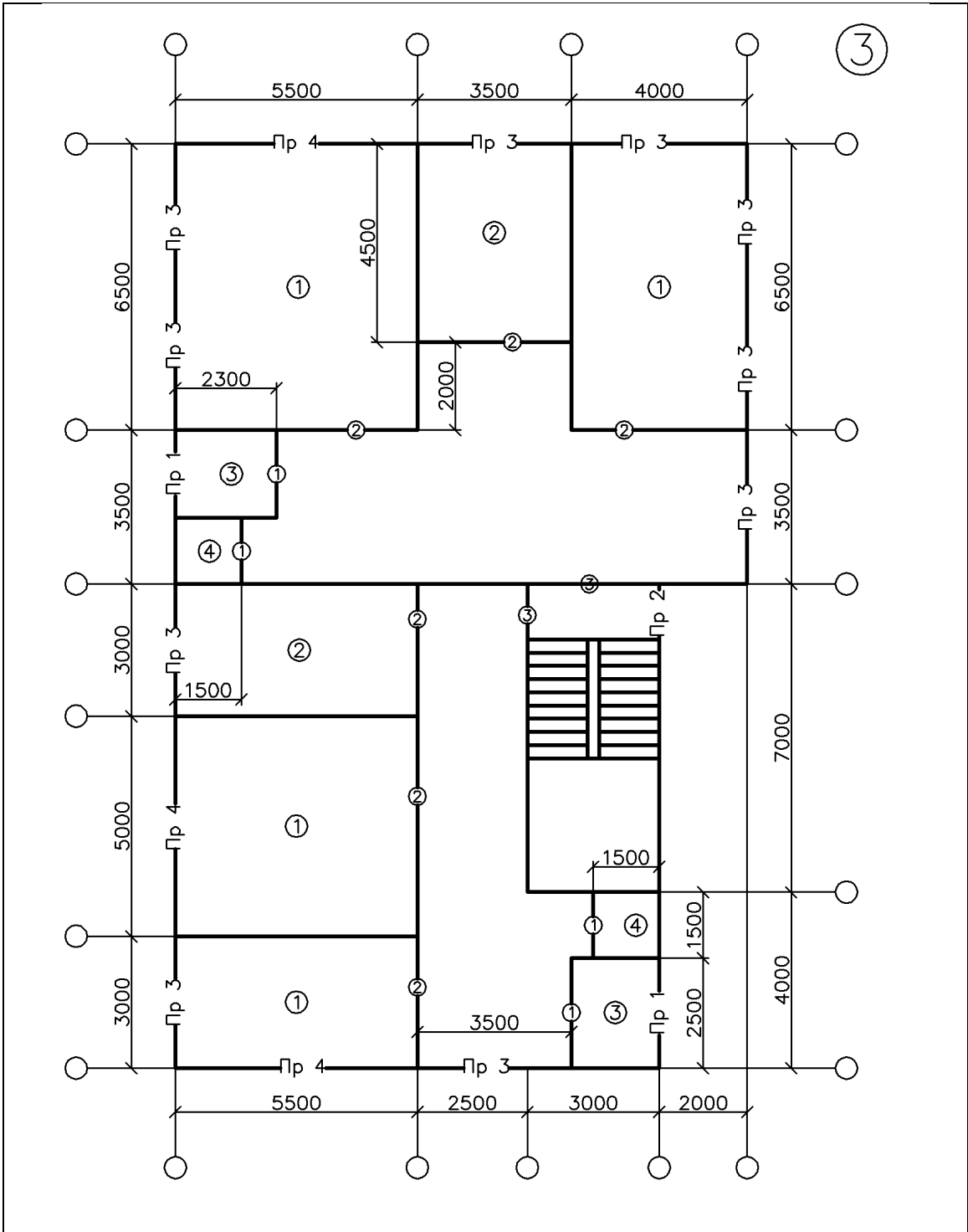
15. Заповнюють основний напис.

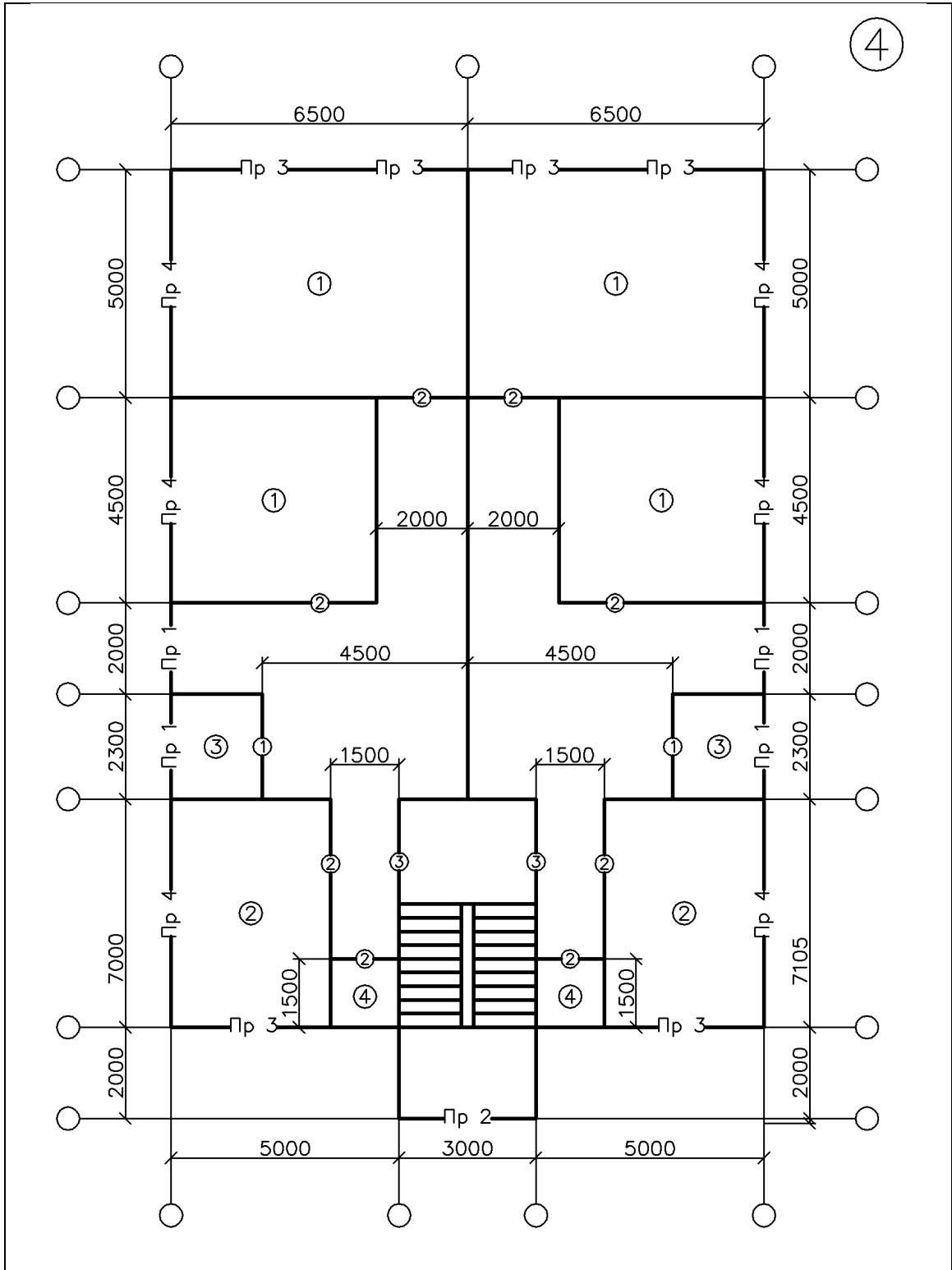
Зразок виконання розрізу наведено в додатку В.

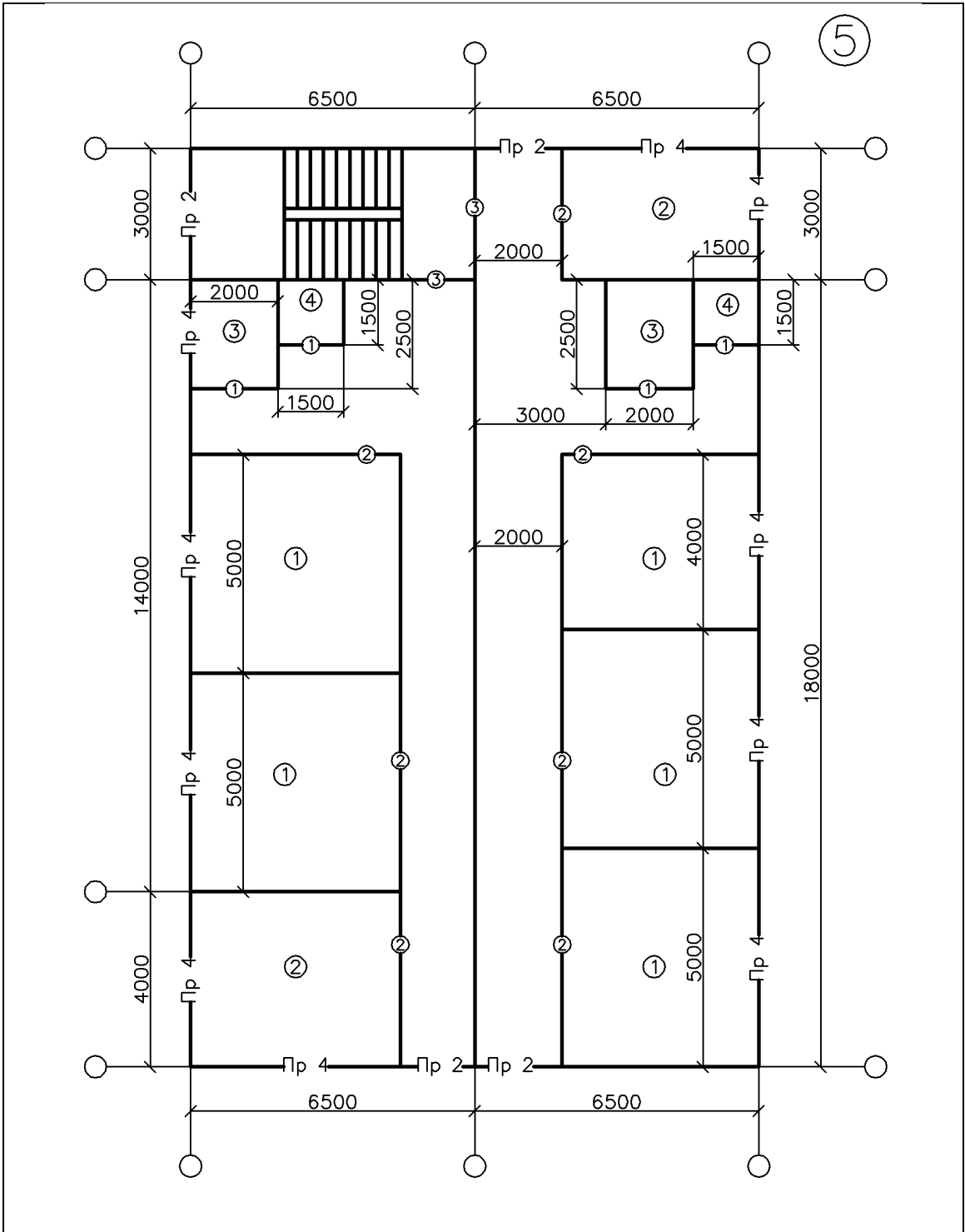
Додаток А

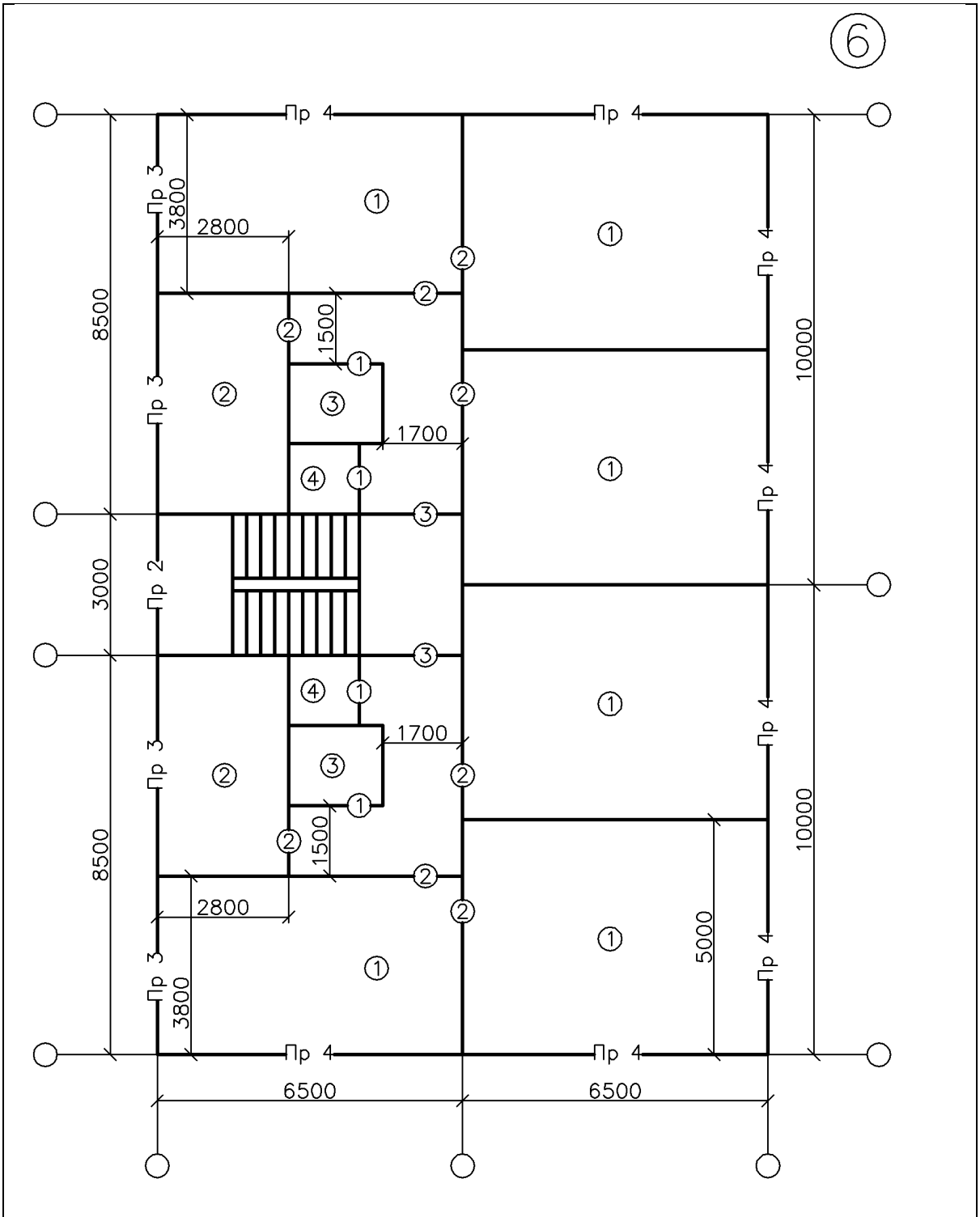


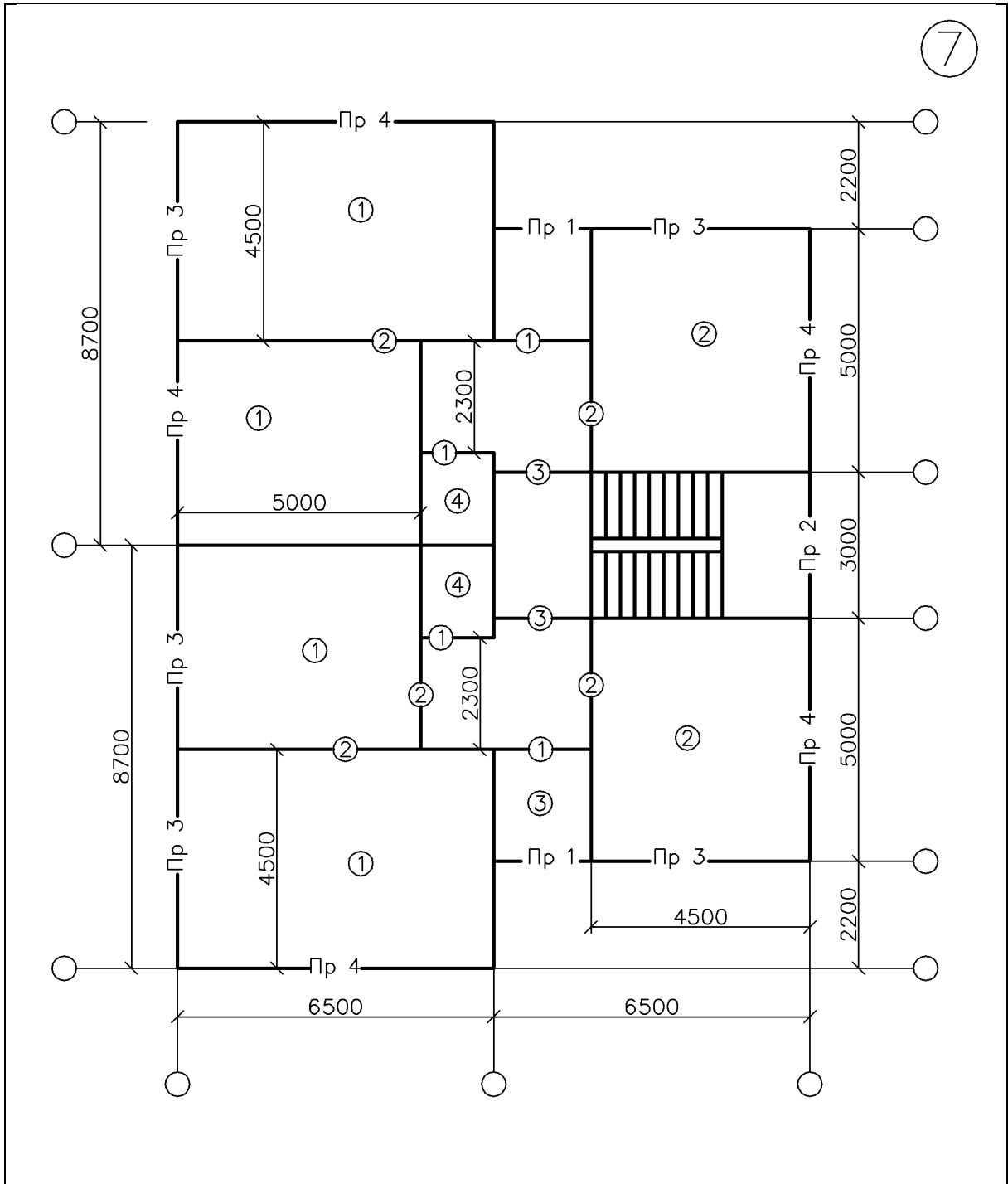


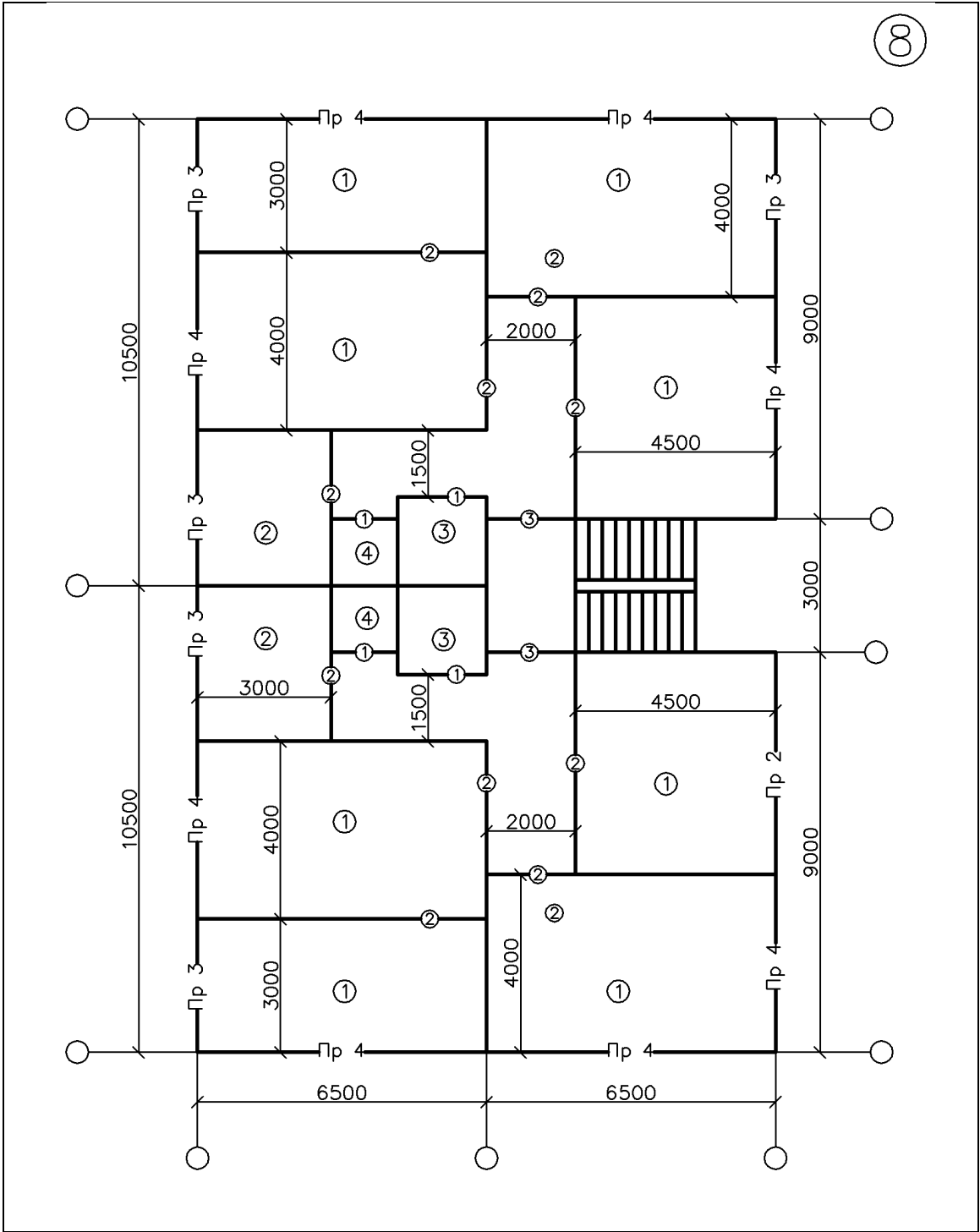


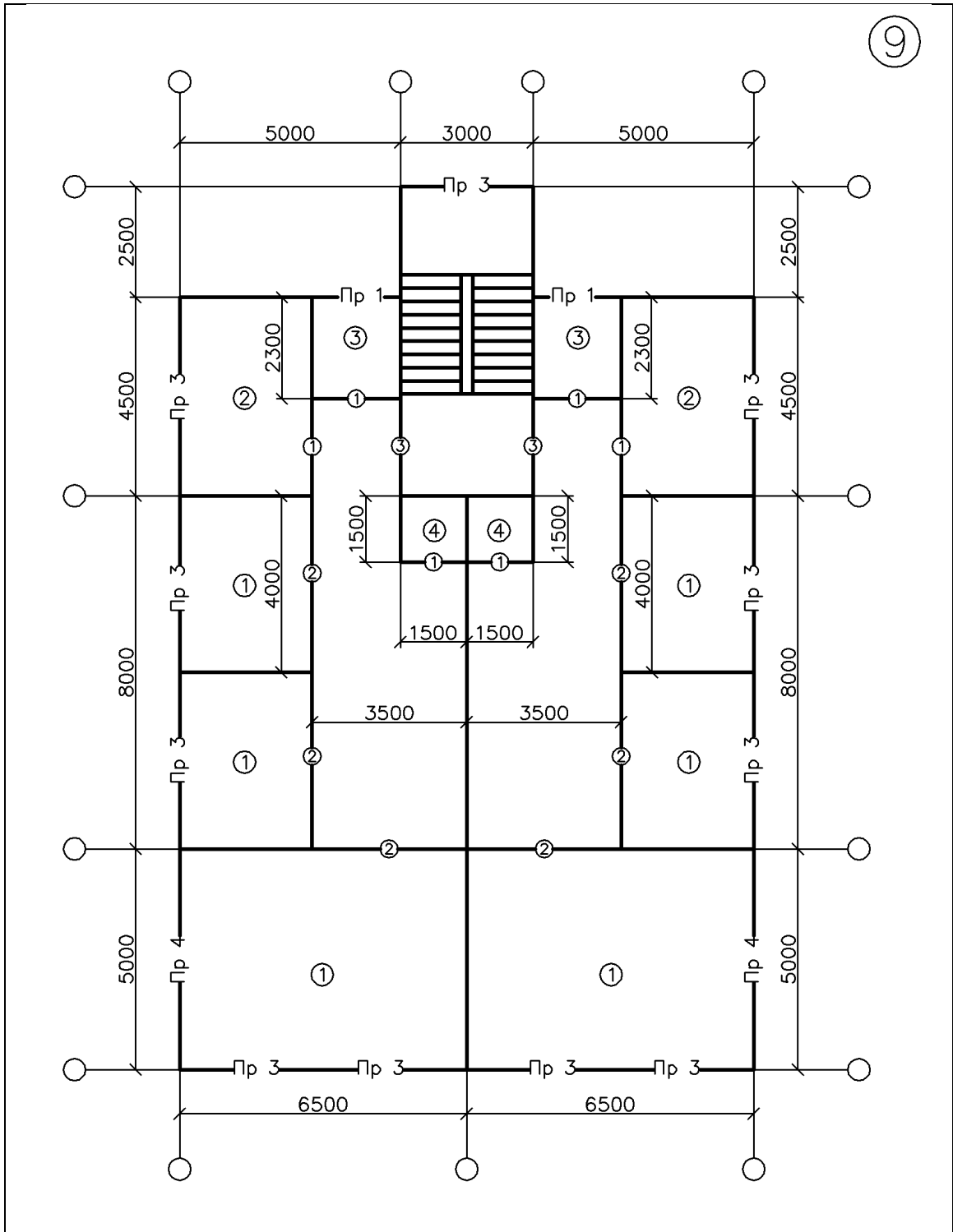


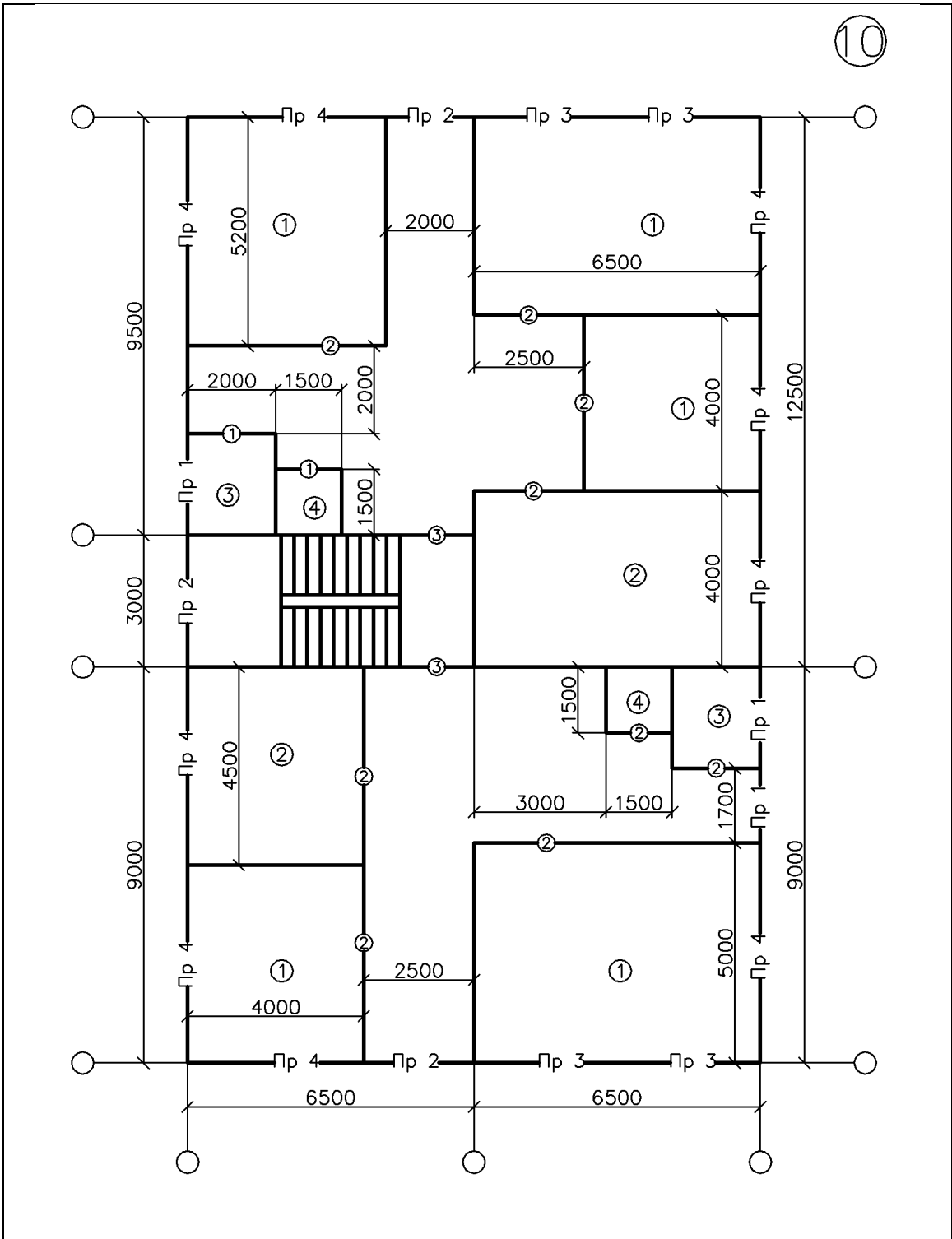


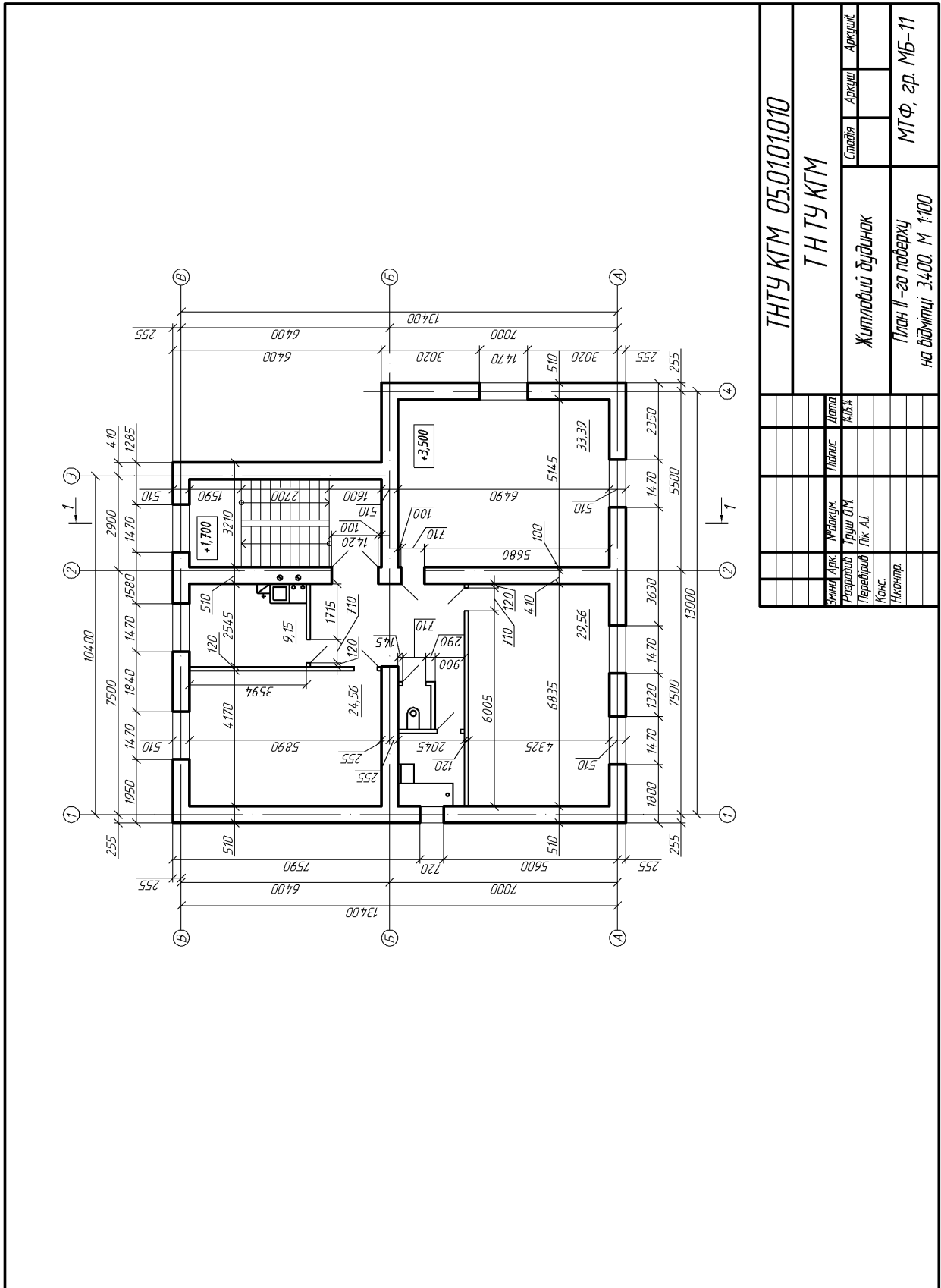




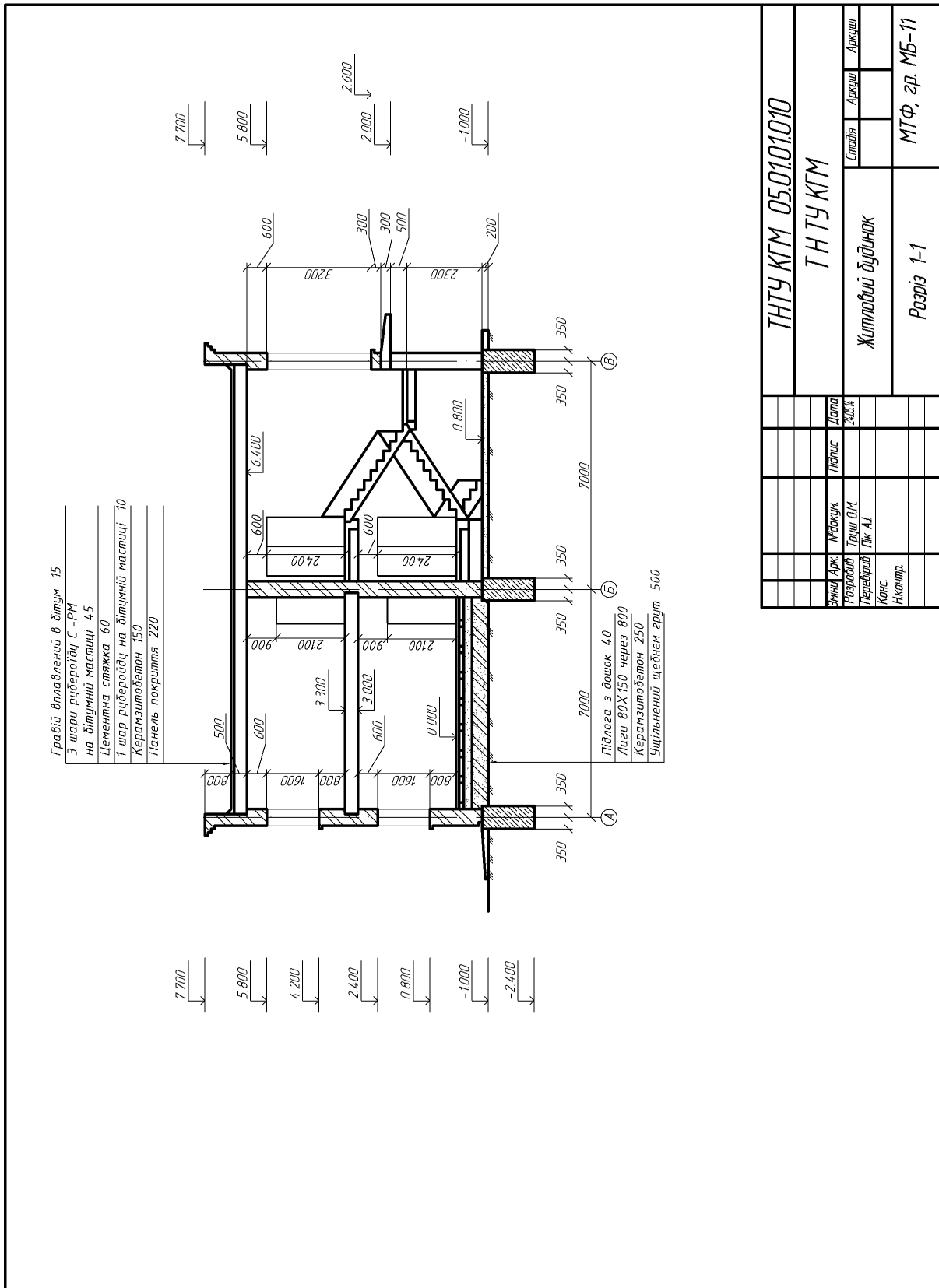








ТНТУ КГМ 05.0101010		Славів		Аркш		Аркш	
ТНТУ КГМ		Славів		Аркш		Аркш	
Житловий будинок		Славів		Аркш		Аркш	
План II-го поверху		Славів		Аркш		Аркш	
на відмітці 3,400. М 1:100		Славів		Аркш		Аркш	



Перелік посилань

1. Михайленко, В.Є. Інженерна та комп'ютерна графіка: підруч. для студ. вищ. навч. закл. [текст] / В.Є. Михайленко, В.В. Ванін, С.М. Ковальов - 3-тє вид. - К.: Каравела, 2003. – 344с.
2. Русскевич, Н.Л. Справочник по инженерно-строительному черчению [текст] / Н.Л. Русскевич, Д.И. Ткач, М.Н. Ткач. – 2-е изд.. - К.: Будивельный, 1987. - 264с.
3. Единая система конструкторской документации: основные положения [текст] / Изд. официальное. - М.: Издательство стандартов, 1983. - 344с.
4. Брилинг, Н. С. Черчение: учеб. пособие для сред. спец. учеб. заведений [текст] / Н. С. Брилинг. 2-е изд. - М.: Стройиздат, 1989. - 420с.
5. Каминский, В. П. Строительное черчение: учеб. для вузов [текст] / В.П. Каминский, О.Г. Георгиевский, Б.В. Бдасов; - 2-е изд. - М.: Архитектура-С, 2007. – 377 с.
6. Правила виконання архітектурно-будівельних робочих креслень: ДСТУ Б А.2.4-7-95 (ГОСТ 21.501-93). – К.: Державний комітет України у справах містобудування і архітектури, 1996. 53с.
7. Годик, Е.И. Техническое черчение [текст] / Е.И. Годик, Б.М. Лисянский, В.Е. Михайленко. – М.: Высшая школа, 1983. – 440 с.
8. Брилинг, Н. Строительное и топографическое черчение / Брилинг Н. – М.: Стройиздат, 1981. – 387 с.
9. Короев, Ю.И. Черчение для строителей [текст] / Ю.И. Короев. 7-е изд. – М.: Высшая школа, 2001. – 256 с.

Зміст

1. Мета посібника	3
2. Загальні відомості й умовності в будівельних кресленнях.....	3
3. Модульна координація розмірів у будівництві.....	6
4. Загальні правила графічного оформлення будівельних креслень.....	9
4.1. Масштаби	9
4.2. Лінії креслення	9
4.3. Розміри	10
4.4. Числові позначки.....	12
4.5. Уклон	13
4.6. Основний напис.....	14
4.7. Написи	15
4.8. Виносні написи.....	16
4.9. Координаційні осі.....	17
5. Основні конструктивні елементи будівель.....	19
6. Виконання планів будівель	21
7. Креслення сходів	30
8. Виконання розрізів будівель	35
9. Умовні графічні зображення будівельних конструкцій, їх елементів.....	39
10. Зміст завдань	50
10.1. Порядок виконання плану	51
10.2. Розріз двоповерхового житлового будинку	53
Додатки.....	55
Перелік посилань.....	67



Видавництво Тернопільського національного технічного університету ім. І. Пулюя

виготовляє підручники для вузів, методичну літературу, художні видання, надає редакційно-видавничі та поліграфічні послуги з набору тексту, розробки макетів і друку книги чи будь-якої іншої поліграфічної продукції (брошури, плакати, афіші, календарі).

КРІМ ТОГО, ВИДАВНИЦТВО ПРОПОНУЄ ТАКІ ПОСЛУГИ:

- дизайн візитівок, буклетів, вітальних листів;
- професійне вичитування і верстку;
- сканування та копіювання;
- чорно-білий і повноколірний друк.



м. Тернопіль
вул. Руська, 56,
корп. 1, кімн. 102
Тел.: (0352)522199

e-mail: vydavnytstvo@tu.edu.te.ua

Навчально-методичний посібник

А. І. Пік; В. І. Ковбашин

БУДІВЕЛЬНЕ КРЕСЛЕННЯ

Навчально-методичний посібник
та завдання до виконання графічної і самостійної роботи для
студентів усіх форм навчання з курсу
“ІНЖЕНЕРНА ГРАФІКА”
для студентів напрямку “Будівництво”

Комп’ютерне верстання: *Федишин Руслан*

Формат 60x90/16. Ум. друк. арк. 4,6. Тираж 60 пр. Зам. № 2326.

Видавництво Тернопільського національного
технічного університету імені Івана Пулюя.

46001, м. Тернопіль, вул. Руська, 56.

Свідоцтво суб’єкта видавничої справи ДК № 4226 від 08.12.11.